

1. **Koja je najveća dozvoljena brzina kretanja vozilom na putevima u naselju, osim ako saobraćajnim znakom nije drugačije određeno?**

- 1 80 km/h;
 - 2 50 km/h;
 - 3 60 km/h.
-

2. **Koliko se kompleta evropskog izvještaja koristi za slučaj saobraćajne nezgode u kojoj su učestvovala dva vozila?**

- 1 dva ili više kompleta evropskog izvještaja;
 - 2 jedan komplet evropskog izvještaja.
-

3. **Da li vozilo koje je zaustavljeno ili parkirano na posebno određenim mjestima na kolovozu ili van njega ili na ulicama sa slabijim saobraćajem mora imati upaljena svjetla?**

- 1 mora;
 - 2 ne mora.
-

4. **Javni putevi moraju da imaju:**

- 1 najmanje jednu saobraćajnu traku i dvije ivične trake ili ivičnjake u ravni kolovoza, a ulice trotoare s ivičnjacima;
 - 2 najmanje dvije saobraćajne trake i dvije ivične trake ili ivičnjake u ravni kolovoza, a ulice trotoare s ivičnjacima;
 - 3 najmanje jednu saobraćajnu traku i jednu ivičnu traku ili ivičnjak u ravni kolovoza, a ulica trotoar s ivičnjakom.
-

5. **Da li vozač može da upotrijebi svjetlosni znak upozorenja danju?**

- 1 da, ako takav način upozorenja drugim učesnicima u saobraćaju više odgovara uslovima na putu;
- 2 ne, svjetlosni znak upozorenja se upotrebljava samo noću.

6. Vozač vozila kojem je dat znak za preticanje sa njegove lijeve strane ne smije?

- 1 smanjivati brzinu kretanja svog vozila;
 - 2 povećavati brzinu kretanja vozila dok se drugim vozilom vrši radnja preticanja;
 - 3 uključiti desni pokazivač smjera radi isključivanja vozilom iz saobraćaja.
-

7. Približavate se vozilom prelazu puta preko željezničke pruge u nivou na kojem nema uređaja za zatvaranje saobraćaja, niti uređaja za davanje znakova kojim se najavljuje približavanje voza. Kako postupate?

- 1 zaustaviti vozilo pred prelazom, odnosno pred željezničkom prugom;
 - 2 upotrijebiti zvučni znak upozorenja i što brže preći preko pruge;
 - 3 pošto se prethodno uvjerite da prugom ne nailazi voz ili neko drugo vozilo koje se kreće šinama prelazite sa naročitom oprežnošću vozilom preko željezničke pruge.
-

8. Koja je najveća dozvoljena brzina kretanja vozilom na putu van naselja, osim na autoputu, putu rezervisanom za saobraćaj motornih vozila i brzom putu?

- 1 60 km/h;
 - 2 80 km/h;
 - 3 100 km/h.
-

9. Približavate se vozilom raskrsnici. Na semaforu je upaljeno žuto trepćuće svjetlo. Iznad semafora je istaknut znak „STOP”. Kako ste dužni postupiti u ovoj situaciji?

- 1 obavezno zaustaviti vozilo;
 - 2 voziti bez zaustavljanja;
 - 3 uključiti uređaj za istovremeno uključivanje svih pokazivača smjera.
-

10. Čemu prilagođavate brzinu kretanja vozila na putevima van naselja?

- 1 vremenu putovanja za koje želim stići na odredište;
- 2 trenutnim uslovima na putu i u saobraćaju;
- 3 vrsti puta.

11. Ulica može da ima:

- 1 samo jednu saobraćajnu traku bez proširenja;
 - 2 jednu saobraćajnu traku s tim da se odgovarajuće proširenje mora nalaziti na svakih 50 m;
 - 3 najmanje dvije saobraćajne trake.
-

12. Koliki broj kaznenih bodova se može odrediti vozaču motornog vozila koji je prekršajnim nalogom odnosno sudskim rješenjem kažnjen za prekršaje kažnjive prema odredbama Zakona o osnovama bezbjednosti saobraćaja na putevima u Bosni i Hercegovini?

- 1 dva, tri i pet bodova, što je određeno kaznenim odredbama zakona;
 - 2 jedan i dva boda, zavisno od težine učinjenog prekršaja;
 - 3 dva i tri boda koja utvrđuje sud prilikom određivanja kazne.
-

13. Na putevima rezervisanim za saobraćaj motornih vozila i brzim putevima (van naselja) vozač ne smije vozilom da se kreće:

- 1 brzinom većom od 70 km na čas a manjom 90 km/h;
 - 2 brzinom većom od 60 km na čas a manjom od 80 km/h;
 - 3 brzinom većom od brzine određene saobraćajnim znakom postavljenim na putu;
 - 4 brzinom većom od 100 km na čas.
-

14. Vozačka dozvola izdaje se za upravljanje motornim i priključnim vozilima koja se razvrstavaju u:

- 1 kategorije A, B, C, D i E;
 - 2 kategorije A, B, BE, C, CE, D i DE;
 - 3 potkategorije F, G i H ;
 - 4 potkategorije A1, B1, C1, D1, C1E i D1E .
-

15. Vozila sa pravom prvenstva prolaza su:

- 1 vozila službe hitne pomoći, vatrogasna vozila;
- 2 vozila inspeksijskih službi;
- 3 vozila policije, sudske policije, zatvorske policije-straže, vojna vozila i vozila Granične policije BiH.

16. Vozač koji se vozilom kreće kroz tunel ne smije:

- 1 da polukružno okreće vozilo;
 - 2 da upravlja vozilom brzinom većom od 40km/h;
 - 3 da se vozilom kreće unazad;
 - 4 da zaustavlja vozilo.
-

17. Vozač motornog vozila dužan je da upotrebljava za osvetljavanje puta kratka svjetla umjesto dugih svjetala:

- 1 prije mimoilaženja s drugim vozilom na razdaljini s koje ocijeni da svjetlom svog vozila zasljepljuje vozača vozila koje mu dolazi u susret, uvijek na razdaljini većoj od 300 m;
 - 2 prije mimoilaženja s drugim vozilom na razdaljini s koje ocijeni da svjetlom svog vozila zasljepljuje vozača vozila koje mu dolazi u susret, a pri mimoilaženju s drugim vozilom-kad vozač tog vozila upali kratka svjetla ili kad naizmjeničnim paljenjem i gašenjem svjetala upozorava da mu duga svjetla smetaju, uvijek na razdaljini manjoj od 200 m;
 - 3 za vrijeme kretanja za drugim vozilom da dugim svjetlima svog vozila ne bi zasljepljivao vozača vozila ispred sebe;
 - 4 za vrijeme dok vozilom prolazi pored organizovane kolone ili povorke pješaka;
 - 5 za vrijeme kretanja za drugim vozilom na rastojanju od najmanje 100 m da dugim svjetlima svog vozila ne bi zasljepljivao vozača vozila ispred sebe.
-

18. „Stop-svjetla“ ne moraju imati vozila koja na ravnom putu ne mogu razviti brzinu veću od:

- 1 25 km/h;
 - 2 30 km/h.
-

19. Vozački ispit iz upravljanja motornim vozilom za vozača kategorije A i A1 podkategorije polaže se:

- 1 na poligonu i na javnom putu u gradu;
 - 2 na javnom putu u gradu.
-

20. Vozač koji namjerava da se kreće vozilom unazad može da izvrši tu radnju:

- 1 samo na kratkom dijelu puta;
- 2 na prevojima na kojima je preglednost nedovoljna;
- 3 pod uslovom da ne ugrožava ili ne ometa druge učesnike u saobraćaju.

21 Koje značenje ima ovaj saobraćajni znak?

- 1 zabrana kretanja za bicikliste i pješake;
- 2 razdvojena staza za pješake i bicikliste, kojom je zabranjeno kretanje drugih učesnika u saobraćaju,
- 3 staza za kretanje pješaka, bicikla i motocikla.



22 Kako treba postupiti nailaskom na ovaj saobraćajni znak?

- 1 povećati brzinu kretanja vozila;
- 2 prilagoditi brzinu kretanja vozila uslovima i stanju na putu jer postoji povećana opasnost od iskliznuća ili prevrtanja vozila.



23 Koje značenje ima ovaj saobraćajni znak?

- 1 mjesto na putu gdje je postavljeno preventivno ulegnuće kao objekat koji se koristi za smirivanje saobraćaja.
- 2 mjesto na putu gdje je postavljena preventivna izbočina kao objekat koji se koristi za smirivanje saobraćaja.



24 Koje značenje ima ovaj saobraćajni znak?

- 1 blizina mjesta na kojem se izvode radovi ili na kojem je prepreka na putu;
- 2 približavanje mjestu na kojem je saobraćaj regulisan svjetlosnim saobraćajnim znacima;
- 3 smjer i način preusmjeravanja saobraćaja.




25 Koje značenje ima ovaj saobraćajni znak?

- 1 blizina dijela puta na kojem se često događaju saobraćajne nezgode;
- 2 blizina dijela puta na kojem se dogodila saobraćajna nezgoda.



26 Koje značenje ima ovaj saobraćajni znak?

- 1 mjesto od kog počinje autoput;
- 2 mjesto od kog počinje put rezervisan za saobraćaj motornih vozila;
- 3 mjesto od kog počinje brzi put.




27 Koje značenje ima ovaj saobraćajni znak?

- 1 položaj puta sa pravom prvenstva prolaza;
- 2 obavezno skretanje ulijevo;
- 3 prvenstvo prolaza u svim smjerovima.



28 Koje značenje ima ovaj saobraćajni znak?

- 1 mjesto u naselju na kojem se ulazi u područje u kojem se ne smije upravljati vozilom brže od brzine hoda pješaka budući da je dječija igra dopuštena;
- 2 mjesto u naselju na kojem se ulazi u područje u kojem je dozvoljeno upravljati vozilom brže od brzine hoda pješaka.



29 Kako treba postupiti prilikom nailaska vozilom na ovlašteno lice koje u vašem smjeru kretanja daje znak kao na slici?

- 1 povećati brzinu kretanja vozila;
- 2 smanjiti brzinu kretanja vozila;
- 3 zaustaviti vozilo.



30 Na koju opasnost upozorava ovaj saobraćajni znak?

- 1 na blizinu tramvajske pruge;
- 2 na blizinu prelaza puta preko željezničke pruge u nivou koja je obezbijeđena branicima ili polubranicima;
- 3 na blizinu prelaza puta preko željezničke pruge u nivou koja nije obezbijeđena branicima ili polubranicima.



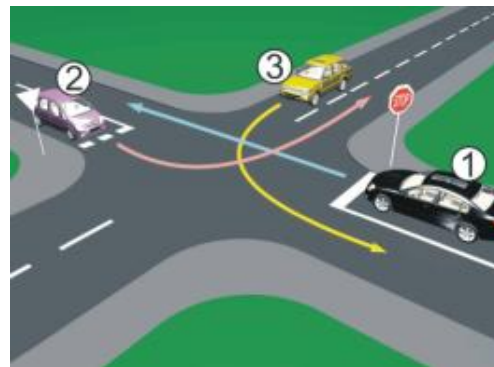
31 Koji je redoslijed prolaska vozila na raskrsnici u situaciji kao na slici?

- 1 4 – 1 – 2 – 3;
- 2 2 – 3 – 4 – 1;
- 3 2 – 3 – 1 – 4.



32 Koji je redoslijed prolaska vozila na raskrsnici u situaciji kao na slici?

- 1 3 – 2 – 1;
- 2 3 – 1 – 2;
- 3 2 – 3 – 1.



33 Kako ćete postupiti na raskrsnici na kojoj je saobraćaj regulisan svjetlosnom saobraćajnom signalizacijom kao na slici?

- 1 obavezno zaustaviti vozilo jer se uključujem sa sporednog puta;
- 2 obavezno zaustaviti vozilo zbog znaka „STOP“;
- 3 nastaviti kretanje vozilom.



34 Kako ćete postupiti na raskrsnici u saobraćajnoj situaciji kao na slici?

- 1 nastaviti kretanje vozilom jer nema niko sa desne strane;
- 2 proći drugi jer sam žutom vozilu sa desne strane;
- 3 zaustaviti se i propustiti oba vozila;



35 Kako ćete postupiti na raskrsnici u saobraćajnoj situaciji kao na slici?

- 1 proći prvi kroz raskrsnicu;
- 2 propustiti crveno vozilo;
- 3 zaustaviti se i propustiti oba vozila;
- 4 proći kroz raskrsnicu prije žutog vozila.



36 Kako ćete postupiti u saobraćajnoj situaciji kao na slici ako upravljate plavim automobilom?

- 1 proći prvi jer sam sa desne strane;
- 2 proći prvi jer skrećem udesno;
- 3 zaustaviti se i propustiti crveno vozilo.



37 Kako ćete postupiti u saobraćajnoj situaciji kao na slici ako imate namjeru proći raskrsnicu?

- 1 obavezno se zaustaviti, bez obzira ima li vozila sa lijeve strane u raskrsnici;
- 2 nastaviti kretanje bez zaustavljanja jer me vozači vozila u raskrsnici moraju propustiti;
- 3 zaustaviti se po potrebi, radi propuštanja vozila koja su već u raskrsnici, a potom proći kroz raskrsnicu.



38 Kako ćete postupiti u saobraćajnoj situaciji kao na slici prilikom dolaska na raskrsnicu?

- 1 nastaviti kretanje jer ne mijenjam smjer kretanja vozila;
- 2 propustiti motocikl;
- 3 proći prije vozila koje dolazi iz suprotnog smjera.



39 Kako trebate postupiti u saobraćajnoj situaciji kao na slici prilikom dolaska na raskrsnicu?

- 1 proći prvi kroz raskrsnicu;
- 2 proći drugi kroz raskrsnicu, nakon propuštanja bijelog vozila;
- 3 proći posljednji kroz raskrsnicu.



40 Kako trebate postupiti u saobraćajnoj situaciji kao na slici prilikom dolaska na raskrsnicu?

- 1 zaustaviti se i propustiti oba vozila;
- 2 proći prvi kroz raskrsnicu jer sam cvenom vozilu sa desne strane;
- 3 propustiti crveno vozilo, a zatim proći kroz raskrsnicu istovremeno sa autobusom.



1	1	2	3	4	5
2	1	2	3	4	5
3	1	2	3	4	5
4	1	2	3	4	5
5	1	2	3	4	5
6	1	2	3	4	5
7	1	2	3	4	5
8	1	2	3	4	5
9	1	2	3	4	5
10	1	2	3	4	5
<input type="text"/> x <input type="text"/> 2 = <input type="text"/>					

11	1	2	3	4	5
12	1	2	3	4	5
13	1	2	3	4	5
14	1	2	3	4	5
15	1	2	3	4	5
16	1	2	3	4	5
17	1	2	3	4	5
18	1	2	3	4	5
19	1	2	3	4	5
20	1	2	3	4	5
<input type="text"/> x <input type="text"/> 2 = <input type="text"/>					

21	1	2	3	4	5
22	1	2	3	4	5
23	1	2	3	4	5
24	1	2	3	4	5
25	1	2	3	4	5
26	1	2	3	4	5
27	1	2	3	4	5
28	1	2	3	4	5
29	1	2	3	4	5
30	1	2	3	4	5
<input type="text"/> x <input type="text"/> 3 = <input type="text"/>					

31	1	2	3	4	5
32	1	2	3	4	5
33	1	2	3	4	5
34	1	2	3	4	5
35	1	2	3	4	5
36	1	2	3	4	5
37	1	2	3	4	5
38	1	2	3	4	5
39	1	2	3	4	5
40	1	2	3	4	5
<input type="text"/> x <input type="text"/> 5 = <input type="text"/>					

Ukupno negativnih: _____



auto škola driving school

LEMI FORCE

Mob: 062 294 509

kreditiranje do 12 rata

www.lemiforce.ba