

**1. Da li oznake na kolovozu spadaju u saobraćajne znakove?**

- 1 ne;
  - 2 da.
- .....

**2. Lice koje je položilo vozački ispit i kome je izdata vozačka dozvola za kategoriju vozila A1, A, B ili C1 ne smije dvije godine od dana izdavanja vozačke dozvole upravljati vozilom na autoputu brzinom većom od:**

- 1 130 km/h;
  - 2 70 km/h;
  - 3 100 km/h;
  - 4 120 km/h.
- .....

**3. Vozač ne smije da zaustavi ili parkira vozilo na raskrsnici i na razdaljini od najbliže ivice poprečnog kolovoza manjoj od:**

- 1 3 m;
  - 2 5 m;
  - 3 15 m.
- .....

**4. Lice koje upravlja zaprežnim vozilom je?**

- 1 vozač vozila koje vuče upregnuta životinja;
  - 2 vozač motornog vozila.
- .....

**5. Saobraćajna traka za vozila javnog gradskog prevoza je:**

- 1 obilježeni uzdužni dio kolovoza na autoputevima i na određenim mjestima na putevima višeg ranga, kao i u tunelima i galerijama, namijenjena za prinudno zaustavljanje vozila.
- 2 obilježeni uzdužni dio kolovoza namijenjen za vozila javnog gradskog prevoza putnika, kad su u vozilu putnici.

**6. Da li je dozvoljeno preticati niz vozila koji čine dvije radne mašine, jedan traktor i dva bicikla?**

- 1 dozvoljeno je;
  - 2 nije dozvoljeno.
- .....

**7. Ako je uređaj za davanje svjetlosnih saobraćajnih znakova postavljen iznad saobraćajne trake, svjetla mogu biti postavljena po horizontalnoj osi, jedno pored drugog:**

- 1 zeleno lijevo, žuto u sredini, a crveno desno;
  - 2 crveno lijevo, zeleno u sredini, a žuto desno;
  - 3 crveno lijevo, žuto u sredini, a zeleno desno.
- .....

**8. U kojem slučaju će vozaču biti oduzeta vozačka dozvola u trajanju od 60 dana?**

- 1 ako mu, u roku od jedne godine, zbog učinjenih prekršaja iz Zakona o osnovama bezbjednosti saobraćaja na putevima u BiH bude određeno najmanje 10 kaznenih bodova;
  - 2 ako mu, u roku od dvije godine, zbog učinjenih prekršaja iz Zakona o osnovama bezbjednosti saobraćaja na putevima u BiH ponovo bude određeno najmanje 10 kaznenih bodova.
- .....

**9. Radnja preticanja i obilaženja se, po pravilu, obavlja:**

- 1 sa obje strane, vozilom kojim se pretiče ili obilazi;
  - 2 sa lijeve strane vozila koje se pretiče ili obilazi;
  - 3 sa desne strane vozila koje se pretiče ili obilazi.
- .....

**10. Da li vozač koji upravlja vozilom kroz tunel smije da zaustavi vozilo u tunelu?**

- 1 da;
- 2 ne;
- 3 da, ako uključi uređaj za uključivanje svih pokazivača smjera.

**11. Javni put izvan naselja čini:**

- 1 zemljišni pojas s desne strane puta širine najmanje dva metra, računajući od krajnje tačke poprečnog profila puta;
  - 2 zemljišni pojas s obje strane puta širine najmanje tri metra, računajući od krajnje tačke poprečnog profila puta;
  - 3 zemljišni pojas s obje strane puta širine najmanje jedan metar, računajući od krajnje tačke poprečnog profila puta
- .....

**12. Koja vozila ne smiju da se kreću autoputem?**

- 1 vozila koja se prema odredbama Zakona o osnovama bezbjednosti saobraćaja na putevima u BiH ne smatraju motornim vozilima;
  - 2 vozila koja prema svojim konstrukcionim osobinama mogu da se kreću brzinom većom od 40 km/h.
- .....

**13. Na kojoj razdaljini od obilježenog pješačkog prelaza vozač ne smije da zaustavi ili parkira vozilo?**

- 1 manjoj od 5 m;
  - 2 manjoj od 15 m.
- .....

**14. Gdje se na putu postavljaju smjerokazni stubići sa bijelim reflektujućim katadiopterom?**

- 1 uz desnu ivicu kolovoza;
  - 2 uz lijevu ivicu kolovoza;
  - 3 samo ispred opasnih krivina.
- .....

**15. Ako je vozač zbog saobraćajne nezgode prinuđen da zaustavi ili parkira vozilo na obilježenom pješačkom prelazu ili na razdaljini manjoj od 5 m od tog prelaza, u naselju, dužan je:**

- 1 postaviti znak kojim se označava zaustavljeno vozilo na kolovozu (bezbjednosni trokut), iza zaustavljenog vozila, u vertikalnom položaju, na udaljenosti manjoj od 10 metara;
- 2 postaviti znak kojim se označava zaustavljeno vozilo na kolovozu (bezbjednosni trokut), iza zaustavljenog vozila, u vertikalnom položaju, na udaljenosti koja ne smije biti manja od 10 metara;
- 3 postaviti znak kojim se označava zaustavljeno vozilo na kolovozu (bezbjednosni trokut), iza zaustavljenog vozila, u vertikalnom položaju, na udaljenosti koja ne smije biti manja od 50 metara.

**16. Znakovi po kojima su dužni postupati svi učesnici u saobraćaju, moraju se ponovo postaviti nakon svakog ukrštanja puteva, odnosno spajanja sa drugim putem, i to:**

- 1 znakovi opasnosti;
  - 2 znakovi izričitih naredbi, ako izričita naredba važi i poslije takvog ukrštanja.
- .....

**17. Da li se na znakovima turističke signalizacije mogu koristiti simboli koji se upotrebljavaju na saobraćajnim znakovima iz grupe znakova obavještenja?**

- 1 da;
  - 2 ne.
- .....

**18. U kojem periodu vozač može preuzeti privremeno oduzetu vozačku dozvolu od organa čije je ovlašteno lice dozvolu oduzelo?**

- 1 u roku od 48 h;
  - 2 u roku od 24 h;
  - 3 u roku od tri dana.
- .....

**19. Oprema, znakovi i oznake za označavanje radova, prepreka i oštećenja kolovoza spadaju u:**

- 1 saobraćajnu opremu puta;
  - 2 svjetlosnu saobraćajnu signalizaciju i svjetlosne oznake;
  - 3 horizontalnu saobraćajnu signalizaciju na kolovozu i drugim površinama.
- .....

**20. Da li je ispred linije zaustavljanja na kolovozu obavezno ispisivanje riječi „STOP”?**

- 1 ne;
- 2 da.
- 3 samo u naselju

**21 Tačan naziv saobraćajnog znaka je:**

- 1 zabrana saobraćaja za vozila koja prevoze opasne materije;
- 2 zabrana saobraćaja za teretna vozila koja prevoze opasne materije



**22 Tačan naziv saobraćajnog znaka je:**

- 1 zabrana saobraćaja za vozila koja prekoračuju određeno dvoosovinsko opterećenje;
- 2 zabrana saobraćaja za vozila čije opterećenje po jednostrukoj osovini prelazi opterećenje označeno na znaku.



**23 Tačan naziv saobraćajnog znaka je:**

- 1 pješačka staza;
- 2 zona smirenog saobraćaja.



**24 Tačan naziv saobraćajnog znaka je:**

- 1 put sa jednosmjernim saobraćajem;
- 2 obavezan smjer.



**25 Koja vozila se obilježavaju oznakom kao na slici?**

- 1 duga vozila;
- 2 vozila čija širina prelazi 2,5 m.



**26 Šta može imati za posljedicu nepoštovanje ovog znaka?**

- 1 moguće zanošenje i izlijetanje vozila sa kolovoza;
- 2 veću kontrolu prilikom upravljanja vozilom;
- 3 moguće oštećenje ili lomljenje dijelova na vozilu.



**27 Tačan naziv saobraćajnog znaka je?**

- 1 pokretni most;
- 2 blizina obale.



**28 Tačan naziv saobraćajnog znaka je?**

- 1 životinje na putu;
- 2 divljač na putu.



**29 Tačan naziv saobraćajnog znaka je?**

- 1 zabrana preticanja svih motornih vozila, osim motocikla bez prikolice i mopeda;
- 2 zabrana preticanja svih motornih vozila, osim mopeda.



**30 Koje značenje ima ovaj saobraćajni znak?**

- 1 zabrana prelaza za bicikl;
- 2 obilježeni prelaz biciklističke staze.



**31 U saobraćajnoj situaciji kao na slici učesnici u saobraćaju će proći kroz raskrscopicu sljedećim redoslijedom:**

- 1 oba bicikla, crveni automobil, zeleni automobil;
- 2 zeleni automobil, crveni automobil, pa bicikli;
- 3 oba bicikla, zeleni automobil, crveni automobil.



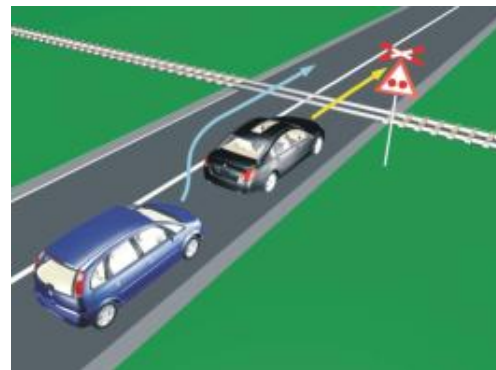
**32 U saobraćajnoj situaciji kao na slici vozač vozila koje se nalazi u srednjoj saobraćajnoj traci:**

- 1 mora nastaviti kretanje vozilom pravo, jer nije pravovremeno izvršio radnju prestrojavanja;
- 2 ne smije izvršiti radnju skretanja ulijevo, jer čini prekršaj;
- 3 sačekaće sva vozila da skrenu ulijevo, a potom izvršiti radnju skretanja ulijevo.



**33 U saobraćajnoj situaciji kao na slici, plavi putnički automobil:**

- 1 ne čini prekršaj jer je prelaz preko pruge regulisan svjetlosnim saobraćajnim znakovima;
- 2 čini prekršaj.



**34 Kako ćete postupiti u saobraćajnoj situaciji kao na slici ukoliko automobilom skrećete udesno?**

- 1 propustiću biciklistu, a zatim vršim radnju skretanja udesno;
- 2 vozim istovremeno sa biciklistom.



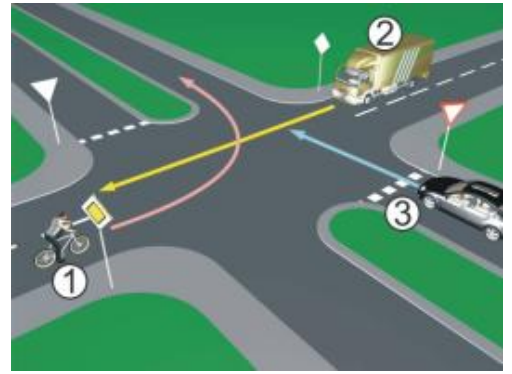
**35 Kako treba postupiti u saobraćajnoj situaciji kao na slici?**

- 1 povećati brzinu kretanja vozila;
- 2 obratiti pažnju na postupke vozača vozila iz suprotnog smjera;
- 3 povećati pažnju i prije vozila iz suprotnog smjera proći dionicu na kojoj je suženje puta.



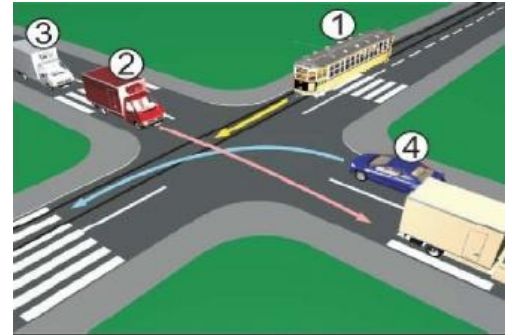
36 Koji je redoslijed prolaska vozila na raskrsnici u situaciji kao na slici?

- 1 2 – 1 – 3;
- 2 3 – 1 – 2;
- 3 3 – 2 – 1.



37 Koji je redoslijed prolaska vozila na raskrsnici u situaciji kao na slici?

- 1 1 – 2 – 3 – 4;
- 2 4 – 1 – 2 – 3;
- 3 2 – 3 – 4 – 1.



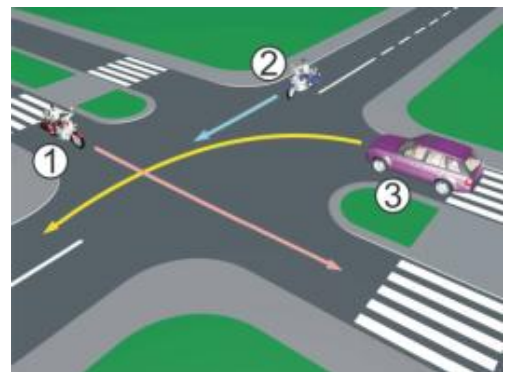
38 Koji je redoslijed prolaska vozila na raskrsnici u situaciji kao na slici?

- 1 3 – 1 – 2;
- 2 2 – 1 – 3;
- 3 1 – 2 – 3.



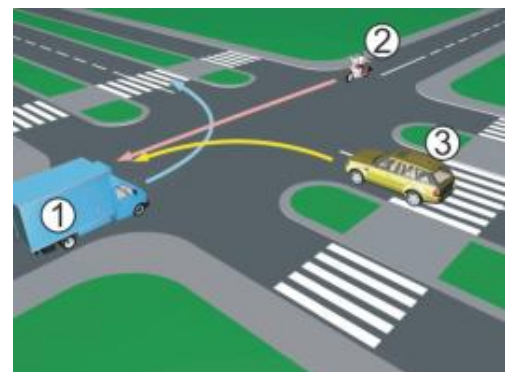
39 Koji je redoslijed prolaska vozila na raskrsnici u situaciji kao na slici?

- 1 3 – 2 – 1;
- 2 1 – 2 – 3;
- 3 2 – 1 – 3.



40 Koji je redoslijed prolaska vozila na raskrsnici u situaciji kao na slici?

- 1 1 – 3 – 2;
- 2 2 – 3 – 1;
- 3 3 – 2 – 1.





1	1	<del>2</del>	3	4	5
2	1	2	3	<del>4</del>	5
3	1	<del>2</del>	3	4	5
4	<del>1</del>	2	3	4	5
5	1	<del>2</del>	3	4	5
6	<del>1</del>	2	3	4	5
7	1	2	<del>3</del>	4	5
8	1	<del>2</del>	3	4	5
9	1	<del>2</del>	3	4	5
10	1	<del>2</del>	3	4	5
x 2 =					
11	1	2	<del>3</del>	4	5
12	<del>1</del>	2	3	4	5
13	<del>1</del>	2	3	4	5
14	1	<del>2</del>	3	4	5
15	1	<del>2</del>	3	4	5
16	1	<del>2</del>	3	4	5
17	<del>1</del>	2	3	4	5
18	1	2	<del>3</del>	4	5
19	<del>1</del>	2	3	4	5
20	<del>1</del>	2	3	4	5
x 2 =					
21	<del>1</del>	2	3	4	5
22	<del>1</del>	2	3	4	5
23	<del>1</del>	2	3	4	5
24	1	<del>2</del>	3	4	5
25	<del>1</del>	2	3	4	5
26	<del>1</del>	2	<del>3</del>	4	5
27	1	<del>2</del>	3	4	5
28	<del>1</del>	2	3	4	5
29	<del>1</del>	2	3	4	5
30	1	<del>2</del>	3	4	5
x 3 =					
31	1	2	<del>3</del>	4	5
32	<del>1</del>	<del>2</del>	3	4	5
33	1	<del>2</del>	3	4	5
34	<del>1</del>	2	3	4	5
35	1	<del>2</del>	<del>3</del>	4	5
36	<del>1</del>	2	3	4	5
37	<del>1</del>	2	3	4	5
38	<del>1</del>	2	3	4	5
39	1	<del>2</del>	3	4	5
40	1	<del>2</del>	3	4	5
x 5 =					

Ukupno negativnih: \_\_\_\_\_

auto škola  
driving school

LEMI FORCE



mob:062 294 509

www.lemiforce.ba