

1. „Brzi put“, u pravilu:

- 1 nema zaustavnih traka;
 - 2 ima zaustavnih traka.
-

2. Međunarodna vozačka dozvola izdaje se na period važenja od:

- 1 jedne godine;
 - 2 dvije godine, odnosno na period propisan međunarodnim ugovorom;
 - 3 tri godine.
-

3. Koja upozorenja vozačima daju zvučne ili vibracijske trake?

- 1 na potrebu povećanja brzine kretanja vozila;
 - 2 na potrebu smanjenja brzine kretanja vozila.
-

4. Vozačka dozvola koja se izdaje licu starijem od 65 godina života produžava se sa rokom važenja od:

- 1 tri godine;
 - 2 dvije godine.
 - 3 deset godina.
 - 4 dvadeset godina
-

5. Ispod slova „L” na tablici kojom se obilježava vozilo za osposobljavanje kandidata za vozača iz upravljanja motornim vozilom upisuje se:

- 1 broj instruktorske dozvole instruktora vožnje;
- 2 registarski broj vozila za koje se tablica koristi.

6. Da li se ispod slova „P” kojim se obilježava vozilo kojim upravlja vozač početnik upisuje broj vozačke dozvole početnika?

- 1 da
- 2 ne

.....

7. Najmanja dopuštena dubina kanala na gaznoj površini pneumatika za putnička vozila je:

- 1 1 mm;
- 2 1,6 mm;
- 3 2 mm.

.....

8. Šta je parkiranje?

- 1 prekid kretanja vozila u trajanju dužem od pet minuta, osim prekida koji se pravi da bi se postupilo po znaku ili pravilu kojim se reguliše saobraćaj;
- 2 prekid kretanja vozila u trajanju do pet minuta, osim prekida koji se pravi da bi se postupilo po znaku ili pravilu kojim se reguliše saobraćaj;
- 3 prekid kretanja vozila u trajanju dužem od tri minute, uključujući i prekide koji se prave da bi se postupilo po znaku ili pravilu kojim se reguliše saobraćaj.

.....

9. Brzi put je javni put koji:

- 1 je namijenjen za saobraćaj isključivo motornih vozila sa jednom ili dvije razdvojene kolovozne trake;
- 2 povezuje veće gradove i važnija privredna područja Bosne i Hercegovine;
- 3 ima sve raskrsnice u dva ili više nivoa sa poprečnim putevima i drugim saobraćajnicama (željezničkim prugama ili tramvajskim prugama);
- 4 povezuje važnija privredna područja Bosne i Hercegovine.

.....

10. U kom slučaju će vozaču biti oduzeta vozačka dozvola u trajanju od 30 dana?

- 1 ako mu, u roku od jedne godine, zbog učinjenih prekršaja iz Zakona o osnovama bezbjednosti saobraćaja na putevima u BiH bude određeno najmanje 7 kaznenih bodova;
- 2 ako mu, u roku od jedne godine zbog učinjenih prekršaja iz Zakona o osnovama bezbjednosti saobraćaja na putevima u BiH, bude određeno najmanje 10 kaznenih bodova.

11. Koja svjetla moraju biti upaljena za vrijeme vožnje kroz tunel?

- 1 kratka svjetla;
 - 2 duga svjetla;
 - 3 svjetla za maglu.
-

12. Vozaču kojem je u roku od jedne godine zbog učinjenih prekršaja iz Zakona o osnovama bezbjednosti saobraćaja na putevima u Bosni i Hercegovini određeno najmanje 10 kaznenih bodova:

- 1 biće oduzeta vozačka dozvola u trajanju od 60 dana;
 - 2 biće oduzeta vozačka dozvola u trajanju od 30 dana;
 - 3 biće upućen na provjeru poznavanja saobraćajnih propisa.
-

13. Vozač koji na provjeri poznavanja saobraćajnih propisa ne pokaže potrebno znanje može, na svoj zahtjev, pristupiti ponovo provjeri:

- 1 poslije isteka 15 dana od dana prethodne provjere;
 - 2 poslije isteka 30 dana od dana prethodne provjere.
-

14. Uređaj za vožnju unazad, kad je upaljen, mora osvjetljivati put svjetlom:

- 1 bijele boje;
 - 2 bijele ili žute boje.
-

15. Osnovna boja znakova opasnosti je?

- 1 žuta boja, a ivice trougla su crvene, izuzev znakova I-25 (radovi na putu) i I-43 (saobraćajna nezgoda), čija je osnovna boja žuta;
- 2 plava a simboli i natpisi su bijele boje;
- 3 bijela boja, a ivice trougla su crvene, izuzev znakova I-25 (radovi na putu) i I-43 (saobraćajna nezgoda), čija je osnovna boja žuta.

16. Uređaj za upravljanje vozilom mora biti pouzdan i izveden tako da:

- 1 vozač može lako, brzo i na siguran način mijenjati smjer kretanja vozila;
 - 2 se prednji točkovi vozila, pri kretanju vozila po vodoravnoj ravnoj površini, nakon oslobađanja točka upravljača, sami vraćaju u položaj za pravolinijsko kretanje;
 - 3 omogućava slobodan hod točka upravljača na vozilu veći od 30°.
-

17. Kako će ovlašteno lice postupiti prema vozaču koji odbije da se podvrgne ispitivanju, odnosno stručnom pregledu na koji je upućen radi provjeravanja da li ima alkohola u organizmu ili da li pokazuje znakove poremećenosti izazavane dejstvom alkohola?

- 1 odrediće mu rok u kojem se mora podvrgnuti ispitivanju, odnosno pregledu;
 - 2 na licu mjesta ćemu privremeno oduzeti vozačku dozvolu;
 - 3 isključiti vozilo iz saobraćaja.
-

18. Vozač koji na putu susretne vozilo ili kolonu vozila pod pratnjom i vozač kojeg sustigne vozilo ili kolona vozila pod pratnjom dužan je:

- 1 da obavezno zaustavi svoje vozilo i propusti vozila pod pratnjom;
 - 2 da ustupi prvenstvo prolaza, omogući nesmetan prolaz vozilima pod pratnjom, a po potrebi i zaustavi svoje vozilo;
 - 3 da umjesto dugih svjetala noću upotrijebi kratka svjetla za osvjetljavanje puta;
 - 4 da se strogo pridržava naredbi koje im daju lica iz pratnje i kretanje nastavi tek kad prođu sva vozila pod pratnjom.
-

19. Na putu s kolovozom za saobraćaj vozila u oba smjera na kojem postoje tri saobraćajne trake:

- 1 vozač ne smije vozilom da se kreće saobraćajnom trakom koja se nalazi uz lijevu ivicu puta u smjeru kretanja vozila;
 - 2 vozač smije vozilom da se kreće saobraćajnom trakom koja se nalazi uz lijevu ivicu puta u smjeru kretanja vozila;
 - 3 vozač ne smije vozilom da se kreće saobraćajnom trakom koja se nalazi uz desnu ivicu puta u smjeru kretanja vozila.
-

20 „Centralni registar“ je evidencija:

- 1 samo o vozačima;
- 2 samo o vozilima;
- 3 o svim vozačima i vozilima.

21 Tačan naziv saobraćajnog znaka je?

- 1 ukrštanje puteva istog značaja;
- 2 ukrštanje sporednih puteva pod oštrim uglom.



22 Tačan naziv saobraćajnog znaka je?

- 1 pokretni most;
- 2 blizina obale.




23 Koje značenje ima ovaj saobraćajni znak?

- 1 zabrana saobraćaja u oba smjera;
- 2 zabrana saobraćaja u smjeru kretanja vozila;
- 3 da se saobraćaj odvija iz suprotnog smjera.



24 Koje značenje ima ovaj saobraćajni znak?

- 1 produžetak puta sa prvenstvom prolaza;
- 2 završetak puta ili dijela puta sa prvenstvom prolaza.



25 Kako ćete postupiti nailaskom na ovaj saobraćajni znak?

- 1 uz povećanu pažnju nastaviti kretanje vozilom, jer imam pravo prvenstva prolaza u odnosu na vozila koja dolaze iz suprotnog smjera;
- 2 zaustaviti vozilo i propustiti vozila iz suprotnog smjera.



26 Kako ćete postupiti nailaskom na ovaj saobraćajni znak?

- 1 smanjiti brzinu kretanja vozila do brzine hoda pješaka;
- 2 povećati brzinu kretanja vozila.



27 Kojim vozilima je dozvoljeno kretanje putem označenim ovim saobraćajnim znakom?

- 1 bicikl;
- 2 putničko vozilo, teretno vozilo, autobus;
- 3 motocikl.



28 Koja vozila se obilježavaju znakom kao na slici?

- 1 vozila koja prevoze opasne materije;
- 2 spora vozila;



29 Koje značenje ima ovaj saobraćajni znak?

- 1 opasnost za koju nije predviđen poseban znak;
- 2 opasnost kad se krećemo klizavim kolovozom.



30 Koje značenje ima ovaj saobraćajni znak?

- 1 mjesto na putu gdje je postavljeno preventivno ulegnuće kao objekat koji se koristi za smirivanje saobraćaja.
- 2 mjesto na putu gdje je postavljena preventivna izbočina kao objekat koji se koristi za smirivanje saobraćaja.



31 Kako trebate postupiti u saobraćajnoj situaciji kao na slici?

- 1 obavezno se zaustaviti;
- 2 nastaviti kretanje vozilom ulijevo, nakon propuštanja vozila koja dolaze sa desne strane;
- 3 nakon što se na semaforu upali zeleno svjetlo, nastaviti kretanje vozilom ulijevo;
- 4 nakon što se na semaforu upali zeleno svjetlo, nastaviti kretanje udesno.



32 Kako ćete postupiti u saobraćajnoj situaciji kao na slici?

- 1 povećati pažnju zbog nailaska na ukrštanje odnosno spajanje puta sa prednošću prolaska sa sporednim putem;
- 2 obavezno nastaviti kretanje vozilom pravo;
- 3 skrenuti udesno na sporedni put ili nastaviti kretanje vozilom pravo.



33 Kako ćete postupiti u saobraćajnoj situaciji kao na slici?

- 1 obratiti pažnju na moguću djecu na putu ili u blizini puta, a brzinu kretanja vozila prilagoditi trenutnim uslovima saobraćaja, s tim da brzina ne smije biti veća od brzine određene saobraćajnim znakom;
- 2 obratiti pažnju samo ako se djeca nalaze na putu, a brzinu prilagoditi trenutnim uslovima saobraćaja.



34 Kako treba postupiti vozač motocikla u saobraćajnoj situaciji kao na slici, ako je na vozilu javnog gradskog prevoza putnika uključen lijevi pokazivač smjera?

- 1 nije dužan omogućiti autobusu uključivanje u saobraćaj;
- 2 dužan je omogućiti autobusu uključivanje u saobraćaj;
- 3 nije dužan omogućiti autobusu uključivanje u saobraćaj jer se autobus nalazi na sporednom putu.



35 U saobraćajnoj situaciji kao na slici vozač putničkog automobila:

- 1 ne smije da izvrši radnju kretanja vozilom unazad, jer čini prekršaj;
- 2 smije izvršiti radnju kretanja vozilom unazad, jer se nalazi neposredno uz mjesto za zaustavljanje vozila.



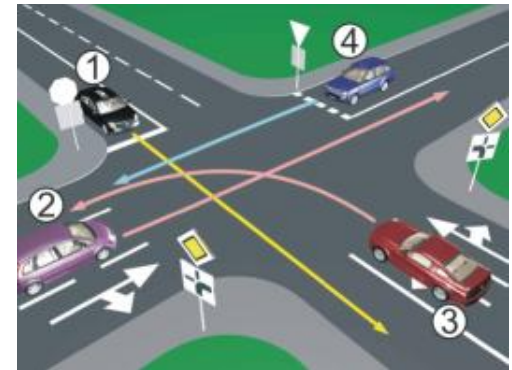
36 Kako u saobraćajnoj situaciji kao na slici mora postupiti vozač vozila broj 2?

- 1 proći prije vozila broj 1;
- 2 propustiti vozilo broj 1.



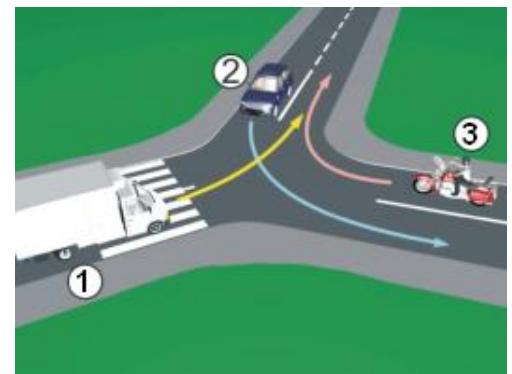
37 Koji je redoslijed prolaska vozila na raskrsnici u situaciji kao na slici?

- 1 1 – 3 – 2 – 4;
- 2 3 – 2 – 1 – 4;
- 3 3 – 1 – 2 – 4;
- 4 1 – 4 – 2 – 3.



38 Koji je redoslijed prolaska vozila na raskrsnici u situaciji kao na slici?

- 1 2 – 1 – 3;
- 2 3 – 1 – 2;
- 3 1 – 2 – 3.



39 Koji je redoslijed prolaska vozila na raskrsnici u situaciji kao na slici?

- 1 1 – 2 – 3;
- 2 1 – 3 – 2;
- 3 3 – 1 – 2.



40 Koji je redoslijed prolaska vozila na raskrsnici u situaciji kao na slici?

- 1 2 – 1 – 3;
- 2 1 – 3 – 2;
- 3 3 – 2 – 1.



1	x	2	3	4	5
2	1	x	3	4	5
3	1	x	3	4	5
4	x	2	3	4	5
5	1	x	3	4	5
6	1	x	3	4	5
7	1	x	3	4	5
8	x	2	3	4	5
9	x	2	x	4	5
10	1	x	3	4	5
x 2 =					
11	x	2	3	4	5
12	1	x	x	4	5
13	x	2	3	4	5
14	x	2	3	4	5
15	1	2	x	4	5
16	x	x	3	4	5
17	1	x	3	4	5
18	1	x	x	x	5
19	x	2	3	4	5
20	1	2	x	4	5
x 2 =					
21	x	2	3	4	5
22	x	2	3	4	5
23	1	x	x	4	5
24	1	x	3	4	5
25	x	2	3	4	5
26	x	2	3	4	5
27	1	x	x	4	5
28	1	x	3	4	5
29	x	2	3	4	5
30	1	x	3	4	5
x 3 =					
31	x	2	x	4	5
32	x	x	3	4	5
33	x	2	3	4	5
34	1	x	3	4	5
35	x	2	3	4	5
36	x	2	3	4	5
37	1	x	3	4	5
38	1	x	3	4	5
39	1	x	3	4	5
40	1	x	3	4	5
x 5 =					

Ukupno negativnih: _____

