

1. Da li je vozaču zabranjeno da pretiče vozilo koje se približava obilježenom pješačkom prelazu, ili koje prelazi pješački prelaz, ili koje je stalo radi propuštanja pješaka na tom prelazu?

1. ne, ako postoje dvije saobraćajne trake u jednom smjeru;
 2. ne,, ako ga pješaci propuštaju;
 3. zabranjeno je.
-

2. Maksimalalni poprečni nagib kolovoza za autoput u tunelu iznosi.

1. 7 %;
 2. 4 %.
-

3. Da li se vozilo koje se kreće po šinama postavljenim na sredini kolovoza smije preticati s lijeve strane?

1. ne
 2. da
-

4. Šta se podrazumijeva pod pojmom „poseban objekat na putu“?

1. oprema na putu postavljena radi smanjenja brzine kretanja vozila na mjestima gdje je posebno ugrožena bezbjednost učesnika u saobraćaju;
 2. zaštitne ograde i naplatne rampe.
-

5. Šta se podrazumijeva pod pojmom „vozilo“?

1. svako prevozno sredstvo namijenjeno za kretanje po putu, osim pokretnih stolica bez motora za nemoćna lica i dječjih prevoznih sredstava;
2. svako motorno vozilo koje je namijenjeno za prevoz lica.

6. Učesnici u saobraćaju dužni su da postupaju:

1. u skladu sa svjetlosnim saobraćajnim znakom, pod uslovom da se značenje tog znaka ne razlikuje od značenja ostalih saobraćajnih znakova ili saobraćajnih pravila;
 2. u skladu sa saobraćajnom signalizacijom, pod uslovom da se time ne odstupa od pravila saobraćaja;
 3. prema znacima ili naredbama koje daju ovlašćena lica i kad se time odstupa od svjetlosnog saobraćajnog znaka ili drugog saobraćajnog znaka ili pravila saobraćaja
-

7. Dio površine puta namijenjen prvenstveno za saobraćaj vozila, naziva se:

1. kolovozna traka;
 2. kolovoz;
 3. saobraćajna traka.
-

8. Za vrijeme upravljanja motornim vozilom danju na vozilu moraju da budu upaljena:

1. kratka ili dnevna svjetla;
 2. duga svjetla.
 3. posebna svjetla za maglu.
-

9. Na raskrsnici i na drugom mjestu na kojem je saobraćaj regulisan uređajima za davanje svjetlosnih saobraćajnih znakova, nakon gašenja „zelenog svjetla“, upaljeno „žuto svjetlo“ ima sljedeće značenje:

1. obavezu za sve učesnike u saobraćaju da se kreću naročitom oprežnošću;
 2. zabranu prolaza za sva vozila;
 3. zabranu prolaza, osim za vozila koja se u času kad se žuto svjetlo pojavi nalaze na tolikoj udaljenosti od svjetlosnog saobraćajnog znaka da se ne mogu bezbjedno zaustaviti, a da ne prođu taj svjetlosni znak, a za ostale učesnike zabrana prolaza.
-

10. Koji postupak je potrebno provesti u slučaju nestanka vozačke dozvole?

1. nestanak vozačke dozvole prijavljuje se nadležnom organu;
2. podnijeti zahtjev za zamjenu nestale vozačke dozvole;
3. nestanak vozačke dozvole objavljuje se u "Službenom glasniku BiH" ili službenim glasilima entiteta i Brčko distrikta Bosne i Hercegovine.

11. Da li se na autoput smije uključiti motorno vozilo koje vuče drugo motorno vozilo koje zbog neispravnosti ne može da se kreće?

- 1 nije regulisano propisom;
 - 2 ne;
 - 3 da.
-

12. Kojim postupcima vozač ugrožava bezbjednost saobraćaja?

- 1 ako vozilom upravlja umoran ili bolestan;
 - 2 ako vozilom upravlja pod uticajem alkohola i opojnih sredstava;
 - 3 ako se vozilom kreće uz desnu ivicu kolovoza.
-

13. Ako je vozilo kojim se prevoze djeca zaustavljeno na kolovozu, na putu sa dvije saobraćajne trake, dok djeca ulaze ili izlaze iz vozila, a vi tom vozilu dolazite u susret, dužni ste:

- 1 zaustaviti vozilo dok djeca ulaze i izlaze iz vozila;
 - 2 smanjiti brzinu kretanja vozila i naročitom opreznošću nastaviti kretanje vozilom;
 - 3 smanjiti brzinu kretanja vozila i po potrebi zaustaviti vozilo.
-

14. Da li je dozvoljeno izvršiti radnju preticanja ili obilaženja saobraćajnom trakom koja je namijenjena za prinudno zaustavljanje vozila?

- 1 da
 - 2 ne
-

15. Kolona je?

- 1 niz od najmanje tri vozila (osim bicikla, traktora, radne mašine i zaprežnog vozila), koja su zaustavljena na putu, ili se na bliskom međusobnom rastojanju kreću istom saobraćajnom trakom u istom smjeru, pri čemu su brzina kretanja vozila i postupanja vozača međusobno uslovljeni i između kojih, bez ometanja, ne može da uđe drugo vozilo;
- 2 niz od najmanje pet vozila koja su zaustavljena na putu, ili se na bliskom međusobnom rastojanju kreću istom saobraćajnom trakom u istom smjeru, pri čemu su brzina kretanja vozila i postupanja vozača međusobno uslovljeni i između kojih, bez ometanja, ne može da uđe drugo vozilo.

16. Koje radnje morate preduzeti prije vršenja radnje polukružnog okretanja?

- 1 predhodno se uvjeriti da je radnju moguće učiniti bez opasnosti za druge učesnike u saobraćaju ili imovinu;
 - 2 uključiti uređaj za istovremeno paljenje svih pokazivača smjera;
 - 3 voditi računa o položaju vozila i pravcu i brzini kretanja.
-

17. Pojam „saobraćajna traka“ podrazumijeva se:

- 1 uzdužni dio kolovoza namijenjen za saobraćaj motornih vozila;
 - 2 obilježeni ili neobilježeni uzdužni dio kolovoza čija je širina dovoljna za nesmetan saobraćaj jednog reda vozila.
-

18. Oznaka za vožnju, na smjerokaznom stubiću, u noćnim uslovima u smjeru vožnje, sa desne strane je?

- 1 crvene boje, a sa lijeve strane crne boje;
 - 2 crvene boje, a sa lijeve strane bijele boje;
 - 3 crne boje, a sa lijeve strane bijele boje.
-

19. Svjetlosni saobraćajni znak „žuto trepćuće svjetlo“ obavezuje sve učesnike u saobraćaju:

- 1 najavu crvenog svjetla;
 - 2 najavu zelenog svjetla;
 - 3 kretanje sa naročitom oprežnošću, i da uređaj za davanje svjetlosnih znakova nije u funkciji regulisanja saobraćaja.
-

20. Za vrijeme upravljanja motornim vozilom na autoputu vozač ne smije:

- 1 mijenjati saobraćajnu traku kojom se predhodno kretao;
- 2 kretati se vozilom unazad;
- 3 obavljati radnju

21 Kako treba postupiti nailaskom na ovaj saobraćajni znak?

- 1 smanjiti brzinu kretanja vozila i povećavati pažnju;
- 2 predviditi mogućnost nailaska na poledicu na kolovozu;
- 3 povećavati brzinu kretanja vozila.



22 Kojim vozilima je zabranjeno kretanje putem označenim ovim saobraćajnim znakom?

- 1 bicikli;
- 2 autobusi i teretna vozila.



23 Kojim vozilima je dozvoljeno kretanje putem označenim ovim saobraćajnim znakom?

- 1 bicikli, mopedi i laki motocikli;
- 2 motocikli.



24 Koje značenje ima ovaj saobraćajni znak?

- 1 zabrana saobraćaja za vozila koja prevoze opasne materije iznad određene količine;
- 2 zabrana saobraćaja za vozila koja prevoze eksploziv ili neke lako zapaljive materije.



25 Tačan naziv saobraćajnog znaka je?

- 1 teren uređen za kampovanje u vozilima;
- 2 zabranjeno kampovanje u vozilima.



26 Tačan naziv saobraćajnog znaka je?

- 1 blizina mjesta na kojem se nalazi autopraonica;
- 2 blizina mjesta gdje je zabranjeno pranje vozila.



27 Koje značenje ima znak koji daje ovlašteno lice na raskrsnici?

- 1 dozvoljen prolaz vozilima koja dolaze sa bočnih strana ovlaštenog lica;
- 2 obavezno zaustavljanje za sva vozila ispred raskrsnice.



28 Dvostruka isprekidana linija služi za obilježavanje:

- 1 saobraćajnih traka sa izmjenljivim smjerom kretanja na kojima je saobraćaj regulisan uređajima za davanje svjetlosnih saobraćajnih znakova;
- 2 saobraćajne trake koju mogu koristiti samo vozila sa pravom prvenstva prolaza.



29 Kada će vozač koji upravlja vozilom koje prevozi opasne materije koristiti ovaj znak?

- 1 kad vrši prevoz na temperaturi ispod 0 °C;
- 2 kad vrši prevoz opasnih materija na povišenoj temperaturi.



30 Tačan naziv saobraćajnog znaka je:

- 1 obavezno zaustavljanje;
- 2 nailazak na put sa prvenstvom prolaza.



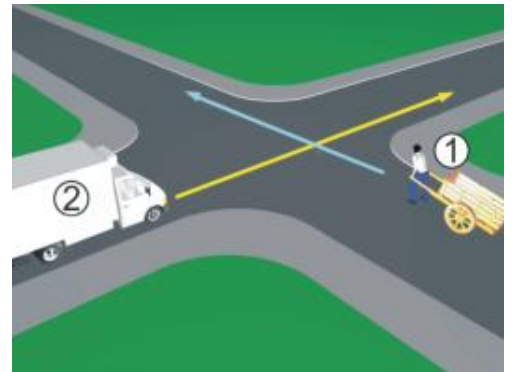
31 Da li je u saobraćajnoj situaciji kao na slici dozvoljeno izvršiti radnju polukružnog okretanja vozilom?

- 1 da;
- 2 ne.



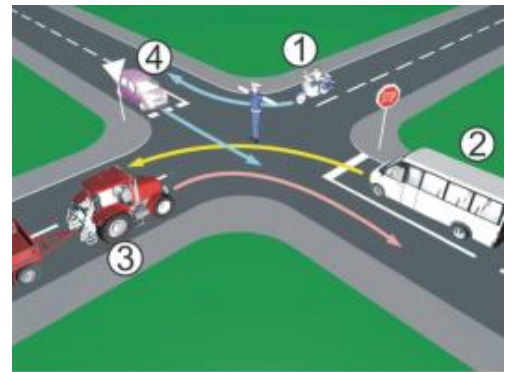
32 U saobraćajnoj situaciji kao na slici, koji učesnik u saobraćaju mora sačekati i propustiti drugog učesnika?

- 1 broj 2;
- 2 broj 1.



33 Kojim vozilima u saobraćajnoj situaciji kao na slici nije dozvoljen prolaz na raskrsnici?

- 1 vozilo broj 1 i broj 3;
- 2 vozilo broj 4 i broj 2.



34 Kako u saobraćajnoj situaciji kao na slici mora postupiti vozač vozila broj 2?

- 1 zaustaviti se i propustiti vozilo broj 1;
- 2 proći prije vozila broj 1.



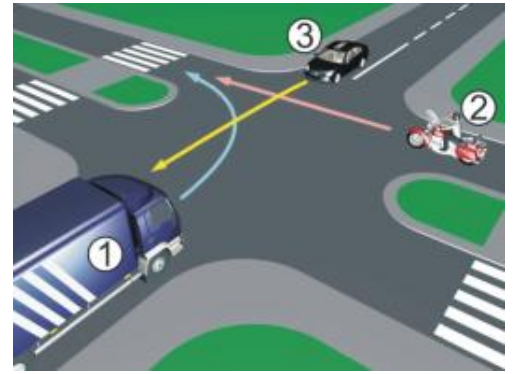
35 Kako u saobraćajnoj situaciji kao na slici mora postupiti vozač vozila broj 2?

- 1 propustiti vozilo broj 1;
- 2 proći prije vozila broj 1.



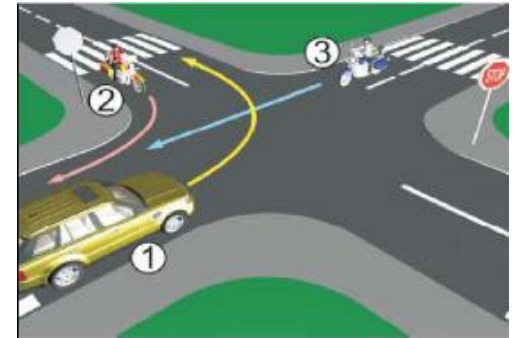
36 Koji je redoslijed prolaska vozila na raskrsnici u situaciji kao na slici?

- 1 3 – 2 – 1;
- 2 2 – 1 – 3;
- 3 1 – 2 – 3.



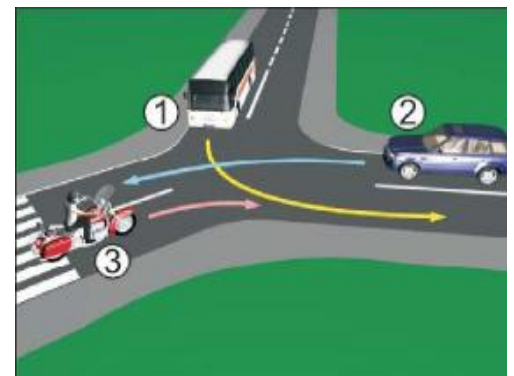
37 Koji je redoslijed prolaska vozila na raskrsnici u situaciji kao na slici?

- 1 1 – 2 – 3;
- 2 2 – 3 – 1;
- 3 3 – 1 – 2.



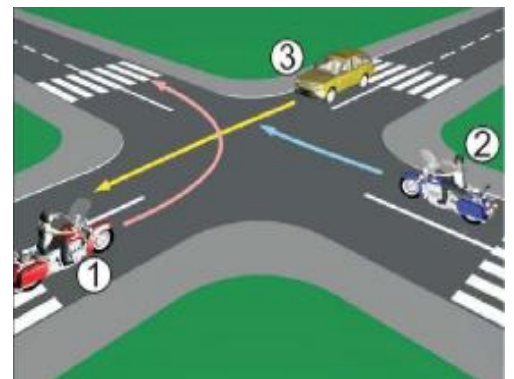
38 Koji je redoslijed prolaska vozila na raskrsnici u situaciji kao na slici?

- 1 2 – 3 – 1;
- 2 3 – 1 – 2;
- 3 1 – 3 – 2.



39 Koji je redoslijed prolaska vozila na raskrsnici u situaciji kao na slici?

- 1 1 – 2 – 3;
- 2 3 – 2 – 1;
- 3 2 – 1 – 3.



40 Koji je redoslijed prolaska vozila na raskrsnici u situaciji kao na slici?

- 1 1 – 3 – 2;
- 2 2 – 3 – 1;
- 3 1 – 2 – 3.



1	1	2	3	4	5
2	1	2	3	4	5
3	1	2	3	4	5
4	1	2	3	4	5
5	1	2	3	4	5
6	1	2	3	4	5
7	1	2	3	4	5
8	1	2	3	4	5
9	1	2	3	4	5
10	1	2	3	4	5
<input type="text"/> x 2 = <input type="text"/>					
11	1	2	3	4	5
12	1	2	3	4	5
13	1	2	3	4	5
14	1	2	3	4	5
15	1	2	3	4	5
16	1	2	3	4	5
17	1	2	3	4	5
18	1	2	3	4	5
19	1	2	3	4	5
20	1	2	3	4	5
<input type="text"/> x 2 = <input type="text"/>					
21	1	2	3	4	5
22	1	2	3	4	5
23	1	2	3	4	5
24	1	2	3	4	5
25	1	2	3	4	5
26	1	2	3	4	5
27	1	2	3	4	5
28	1	2	3	4	5
29	1	2	3	4	5
30	1	2	3	4	5
<input type="text"/> x 3 = <input type="text"/>					
31	1	2	3	4	5
32	1	2	3	4	5
33	1	2	3	4	5
34	1	2	3	4	5
35	1	2	3	4	5
36	1	2	3	4	5
37	1	2	3	4	5
38	1	2	3	4	5
39	1	2	3	4	5
40	1	2	3	4	5
<input type="text"/> x 5 = <input type="text"/>					

Ukupno negativnih: _____

auto škola driving school

LEMI FORCE

mob:062 294 509 www.lemiforce.ba

