

1. **Prilikom regulisanja saobraćaja u raskrsnici sa kružnim tokom potrebno je saobraćaj regulisati:**

- 1 tako da vozila u kružnom toku imaju prvenstvo prolaza;
 - 2 tako da vozila u kružnom toku nemaju prvenstvo prolaza.
-

2. **U zaštitnom pojasu javnog puta van naselja mogu se postavljati natpisi za reklame, i to pored autoputa i puta rezervisanog za saobraćaj motornih vozila:**

- 1 na razdaljini od najmanje 10 metara, računajući od krajnje tačke poprečnog profila;
 - 2 na razdaljini od najmanje 12 metara, računajući od krajnje tačke poprečnog profila;
 - 3 na razdaljini od najmanje 8 metara, računajući od krajnje tačke poprečnog profila.
-

3. **Stoku koja se kreće javnim putem gonič stoke mora da drži što je moguće bliže?**

- 1 desnoj ivici kolovoza;
 - 2 lijevoj ivici kolovoza;
 - 3 središnjoj liniji.
-

4. **Motorno vozilo koje vuče vozilo koje prevozi opasne materije, ne smije se kretati brzinom većom od:**

- 1 25 km/h;
 - 2 30 km/h;
 - 3 40 km/h.
-

5. **Ugaono svjetlo podrazumijeva:**

- 1 svjetlosni uređaj namijenjen da osigura dodatno osvjetljavanje prostora neposredno uz prednji ugao vozila na strani na koju je, ili se namjerava da bude, vozilo upravljeno;
- 2 svjetlosni uređaj namijenjen da osigura dodatno osvjetljavanje prostora bočno od vozila tokom manevra pri maloj brzini kretanja vozila;
- 3 svjetlosni uređaj namijenjen da osigura dodatno osvjetljavanje prostora kako bi vozaču i putnicima bilo olakšano ulazanje i izlaženje iz vozila, kao i radnje utovara i istovara.

6. **Vozački ispit iz upravljanja motornim vozilom za vozača kategorije B polaže se:**

- 1 na javnom putu u gradu;
 - 2 na poligonu i na javnom putu u gradu;
 - 3 samo na poligonu.
-

7. **Aparat za gašenje požara postavljen na vidljivom mjestu, tako da se u slučaju opasnosti može upotrijebiti, moraju imati:**

- 1 putnička motorna vozila;
 - 2 vozila za javni prevoz, teretna motorna i priključna vozila;
 - 3 putnička motorna vozila opremljena za korišćenje alternativnih goriva (LPG, CNG,).
-

8. **U priključnom vozilu za stanovanje (kamp-prikolica) dozvoljeno je prevoziti lica?**

- 1 da;
 - 2 ne.
-

9. **Zaprežnim vozilom na javnom putu može upravljati lice?**

- 1 sa navršениh 16 godina života;
 - 2 sa navršениh 14 godina života;
 - 3 sa navršениh 15 godina života.
-

10. **Vozač u putničkom automobilu smije prevoziti dijete na zadnjem sjedištu:**

- 1 koje je starije od tri a mlađe od 10 godine;
- 2 koje je starije od pet a mlađe od 12 godine;
- 3 koje sjedi na posebnom podmetaču prilagođenom njegovoj visini koji omogućava upotrebu sigurnosnog pojasa;
- 4 kada je ispravno vezano sigurnosnim pojasom, ili je ispravno vezano u sigurnosnoj sjedalici koja je za sjedište pričvršćena pomoću sigurnosnog pojasa u tri tačke vezivanja ili posebnim kopčama u vozilu.

11. **Izlaz (izlazni otvor) ispusne cijevi uređaja za odvod i ispuštanje ispusnih gasova ne smije biti usmjeren:**

- 1 u desnu stranu motornog vozila;
 - 2 u lijevu stranu motornog vozila.
-

12. **Kada kandidat ima pravo prigovora na način ispitivanja i ponašanja ispitivača za vrijeme ispita?**

- 1 nema pravo prigovora;
 - 2 odmah po završetku ispita, što evidentira ispitivač, o čemu odlučuje predsjednik Komisije u roku od tri dana od završetka ispita.
-

13. **Ispitivač će udaljiti sa ispita kandidata i smatrat će se da kandidat nije položio ispit ukoliko kandidat:**

- 1 ometa rad ispitivača;
 - 2 oštećuje imovinu ili materijalna dobra;
 - 3 koristi nedopuštena sredstva i na drugi način ometa ispit;
 - 4 koristi dopuštena sredstva.
-

14. **Pod kojim uslovima u putničkom vozilu vozač može prevoziti dijete mlađe od dvije godine na prednjem sjedištu vozila?**

- 1 ako vozilo nema vazdušni jastuk za suvozača ili je vazdušni jastuk za vozača isključen;
 - 2 ako se dijete prevozi u sigurnosnoj sjedalici postavljenoj suprotno smjeru kretanja vozila;
 - 3 ako je sigurnosna sjedalica pričvršćena za sjedište pomoću sigurnosnog pojasa u tri tačke vezivanja ili posebnim kopčama u vozilu;
 - 4 ako vozač ima više od 21 godinu starosti.
-

15. **Instruktor vožnje za vrijeme osposobljavanja kandidata obavlja obuku:**

- 1 sa više kandidata u vozilu;
- 2 samo sa jednim kandidatom u vozilu.

16. U slučaju neispravnosti vozila koje je natovareno opasnim materijama, takvo vozilo se vuče pomoću:

- 1 užeta;
 - 2 automatskih vučnih kuka sa višestepenovanom regulacijom;
 - 3 krute veze (rude);
 - 4 oslanjanjem ili vješanjem vozila na vučno vozilo.
-

17. Za vrijeme osposobljavanja kandidata za vozača iz upravljanja motornim vozilom, kandidat za vozača pored identifikacionih dokumenata kod sebe mora imati i na zahtjev ovlašćenog lica pokazati sljedeću dokumentaciju:

- 1 ljekarsko uvjerenje;
 - 2 potvrdu o završenom osposobljavanju iz upravljanja motornim vozilom;
 - 3 uvjerenje o položenom ispitu iz pružanja prve pomoći;
 - 4 potvrdu o završenom osposobljavanju iz poznavanja propisa o bezbjednosti saobraćaja na putevima;
 - 5 uvjerenje o položenom ispitu iz poznavanja propisa o bezbjednosti saobraćaja na putevima za onu kategoriju za koju se kandidat osposobljava.
-

18. Obuka iz teoretskog dijela prve pomoći traje:

- 1 tri školska časa;
 - 2 šest školskih časova.
-

19. Svjetla za maglu koja se nalaze na prednju strani vozila moraju biti:


- 1 crvene boje;
 - 2 bijele ili žute boje.
-

20. Kada je organizator dužan prekinuti održavanje sportske ili druge priredbe, odnosno aktivnosti na putu?

- 1 kada su ugroženi učesnici ili gledaoci;
- 2 kada nije narušen javni red i mir;
- 3 kada nastanu okolnosti zbog kojih priredba, odnosno aktivnosti ne bi bile odobrene;
- 4 kada organizator ne provodi određene mjere osiguranja;
- 5 kada nisu ugroženi učesnici ili gledaoci.

21 Kako treba postupiti nailaskom na ovaj saobraćajni znak?

- 1 obavezno zaustaviti vozilo;
- 2 nastaviti kretanje vozilom sa naročitom oprežnošću;
- 3 smanjiti brzinu kretanja vozila tako da se u slučaju potrebe može blagovremeno izvršiti radnja kočenja i zaustavljanja;
- 4 nastaviti kretanje vozilom bez smanjenja brzine kretanja.



22 Koje značenje ima ovaj saobraćajni znak?

- 1 dozvoljeni smjer;
- 2 put sa jednosmjernim saobraćajem;
- 3 obavezno obilaženje sa desne strane.



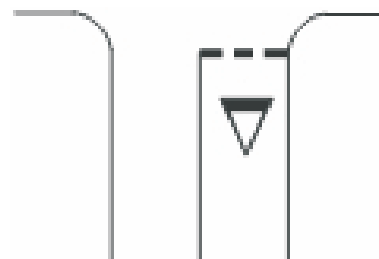
23 Kako treba postupiti nailaskom na ovaj saobraćajni znak?

- 1 obavezno smanjiti brzinu kretanja vozila ispod 30 km/h;
- 2 nastaviti kretanje vozilom sa naročitom oprežnošću u dužini od 30 km;
- 3 nastaviti kretanje vozilom pri čemu je najmanja dopuštena brzina kretanja vozila 30 km/h.



24 Kako treba postupiti nailaskom na ove oznake na kolovozu?

- 1 obavezno izvršiti radnju skretanja udesno;
- 2 zaustaviti se po potrebi i propustiti pješake na obilježenom pješačkom prelazu;
- 3 zaustaviti se po potrebi i propustiti vozila koja se kreću na putu sa prvenstvom prolaza.



25 Kako treba postupiti nailaskom na ovaj saobraćajni znak?

- 1 obavezno zaustaviti vozilo;
- 2 nastaviti kretanje vozilom sa naročitom oprežnošću;
- 3 prilagoditi brzinu kretanja vozila tako da se, u slučaju potrebe, može blagovremeno zaustaviti vozilo.




26 Koje značenje ima ovaj saobraćajni znak?

- 1 prestanak ograničenja brzine od 80 km/h;
- 2 dio puta gdje prestaje preporučena brzina od 80 km/h;
- 3 dio puta gdje je preporučena brzina 80 km/h.



27 Koje značenje ima ovaj saobraćajni znak?

- 1 mjesto gdje prestaju sve zabrane;
- 2 put ili dio puta na kojem vozila imaju prednost prolaza prema vozilima koja se kreću putevima koji se ukrštaju, odnosno spajaju sa tim putem ili dijelom puta;
- 3 prelazak puta preko željezničke pruge.



28 Koje značenje ima ovaj saobraćajni znak?

- 1 dozvoljeni smjer;
- 2 prvenstvo prolaza u odnosu na vozila koja dolaze iz suprotnog smjera;
- 3 put sa jednosmjernim saobraćajem.



29 Tačan naziv saobraćajnog znaka je?

- 1 prestanak najmanje dopuštene brzine;
- 2 prestanak preporučene brzine.
- 3 prestanak ograničenja brzine.



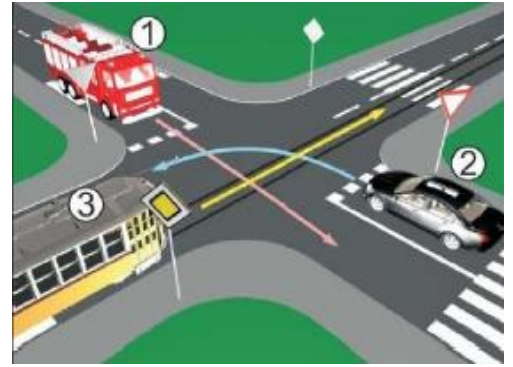
30 Tačan naziv saobraćajnog znaka je:

- 1 zabrana saobraćaja za sva motorna vozila, osim za motocikla bez prikolice i mopeda;
- 2 zabrana saobraćaja za sva motorna vozila, osim za motocikla bez prikolice.



31 Koji je redoslijed prolaska vozila na raskrsnici u situaciji kao na slici?

- 1 3 – 1 – 2;
- 2 2 – 1 – 3;
- 3 1 – 3 – 2.



32 Koji je redoslijed prolaska vozila na raskrsnici u situaciji kao na slici?

- 1 2 – 1 – 3;
- 2 3 – 2 – 1;
- 3 1 – 3 – 2.



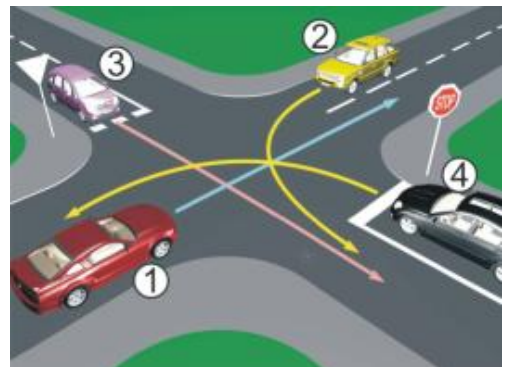
33 Koji je redoslijed prolaska vozila na raskrsnici u situaciji kao na slici?

- 1 1 – 2 – 3;
- 2 2 – 3 – 1;
- 3 3 – 2 – 1.



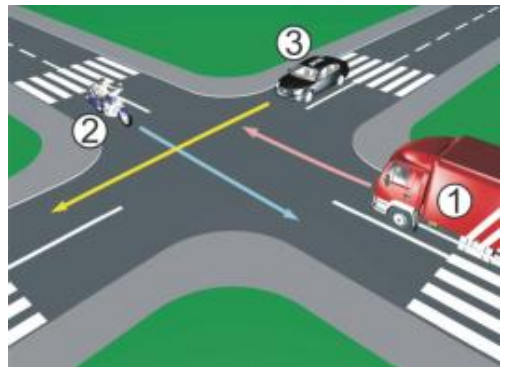
34 Koji je redoslijed prolaska vozila na raskrsnici u situaciji kao na slici?

- 1 2 – 1 – 3 – 4;
- 2 1 – 2 – 3 – 4;
- 3 1 – 2 – 4 – 3.



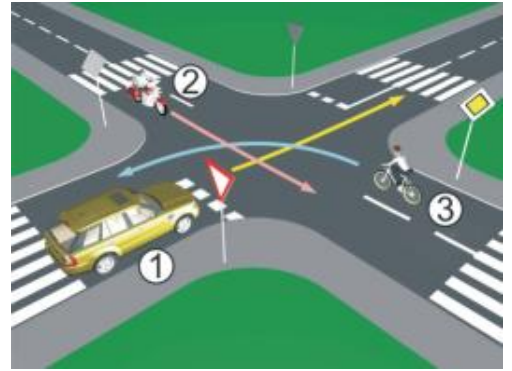
35 Koji je redoslijed prolaska vozila na raskrsnici u situaciji kao na slici?

- 1 1 – 3 – 2;
- 2 3 – 2 – 1;
- 3 2 – 3 – 1.



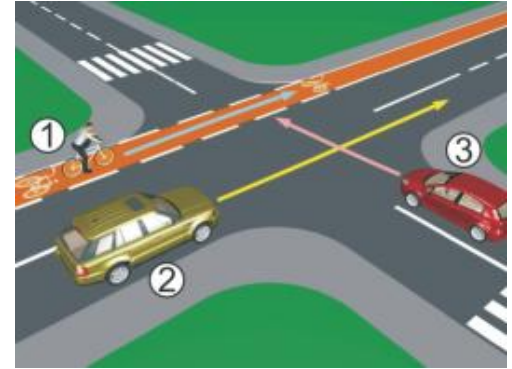
36 Koji je redoslijed prolaska vozila na raskrsnici u situaciji kao na slici?

- 1 2 – 3 – 1;
- 2 2 – 1 – 3;
- 3 3 – 1 – 2.



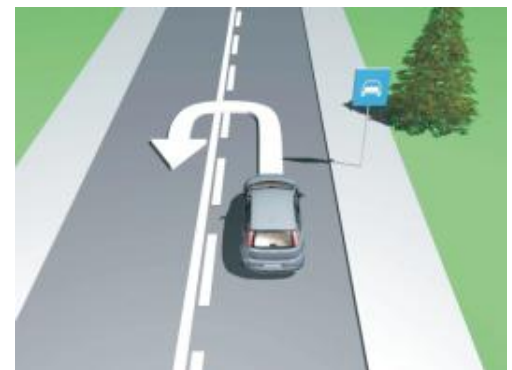
37 Koji je redoslijed prolaska učesnika u saobraćaju na raskrsnici u situaciji kao na slici?

- 1 1-3-2;
- 2 3, pa 2 i 1 istovremeno;
- 3 2 i 1 istovremeno, pa 3.



38 Da li je u saobraćajnoj situaciji kao na slici dozvoljeno izvršiti radnju polukružnog okretanja vozilom kojim upravljate?

- 1 da;
- 2 ne.



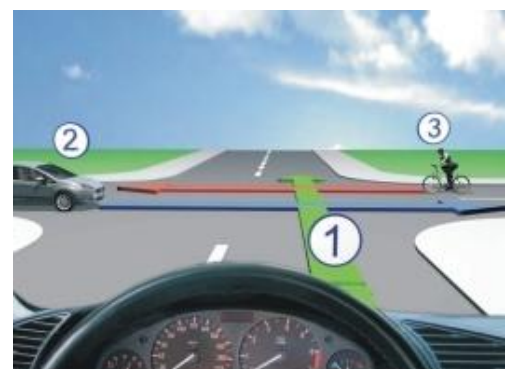
39 Koji je redoslijed prolaska vozila na raskrsnici u situaciji kao na slici?

- 1 1 – 3 – 2;
- 2 1 – 2 – 3;
- 3 3 – 1 – 2.



40 Koji je redoslijed prolaska vozila na raskrsnici u situaciji kao na slici?

- 1 1 – 3 – 2;
- 2 3 – 1 – 2;
- 3 2 – 3 – 1.



1	1	2	3	4	5
2	1	2	3	4	5
3	1	2	3	4	5
4	1	2	3	4	5
5	1	2	3	4	5
6	1	2	3	4	5
7	1	2	3	4	5
8	1	2	3	4	5
9	1	2	3	4	5
10	1	2	3	4	5
x 2 =					
11	1	2	3	4	5
12	1	2	3	4	5
13	1	2	3	4	5
14	1	2	3	4	5
15	1	2	3	4	5
16	1	2	3	4	5
17	1	2	3	4	5
18	1	2	3	4	5
19	1	2	3	4	5
20	1	2	3	4	5
x 2 =					
21	1	2	3	4	5
22	1	2	3	4	5
23	1	2	3	4	5
24	1	2	3	4	5
25	1	2	3	4	5
26	1	2	3	4	5
27	1	2	3	4	5
28	1	2	3	4	5
29	1	2	3	4	5
30	1	2	3	4	5
x 3 =					
31	1	2	3	4	5
32	1	2	3	4	5
33	1	2	3	4	5
34	1	2	3	4	5
35	1	2	3	4	5
36	1	2	3	4	5
37	1	2	3	4	5
38	1	2	3	4	5
39	1	2	3	4	5
40	1	2	3	4	5
x 5 =					

Ukupno negativnih: _____

