

1. Koja motorna i priključna vozila moraju imati gabaritna svjetla?

- 1 motorna i priključna vozila čija visina prelazi 2,8 m;
 - 2 motorna i priključna vozila koja su šira od 2,1 m.
-

2. Vuča natovarenog teretnog vozila sa priključnim vozilom ili bez priključnog vozila, odnosno traktora sa priključnim vozilom dozvoljena je samo:

- 1 do prvog mjesta pogodnog za pretovar tereta;
 - 2 izuzetno i do prvog mjesta na kojem može da se otkloni kvar na vozilu;
 - 3 vuča natovarenog teretnog vozila nije dozvoljena;
 - 4 vuča natovarenog teretnog vozila je dozvoljena bez ikakvih uslova.
-

3. Teret na vozilu ne smije da pređe najudaljeniju tačku na prednjoj strani vozila za više od:

- 1 0,25 m;
 - 2 0,50 m;
 - 3 1,00 m;
 - 4 jednu šestinu svoje dužine.
-

4. Pod izrazom naseljeno mjesto podrazumijeva se:

- 1 izgrađen, nastanjen, prostorno i funkcionalno objedinjen dio naseljenog mjesta u kom su javni putevi izgrađeni sa uređenim trotoarom i ivičnjakom pored kojeg se nalazi najmanje sa jedne strane red kuća ili grupa zgrada i čije su granice obilježene saobraćajnim znakom za obilježavanje naselja;
 - 2 prostorna jedinica u Bosni i Hercegovini koja obuhvata jedno ili više naselja sa područjem koje pripada tom naseljenom mjestu, čiji se naziv i teritorija uređuju posebnim zakonima i čija je teritorija označena saobraćajnim znakom za obilježavanje naseljenih mjesta;
 - 3 prostor na kojem se redovi ili grupe zgrada nalaze s jedne ili s obje strane puta, dajući mu izgled ulice i čije granice određuje nadležni organ za upravljanje putevima saobraćajnim znakovima za obilježavanje naseljenih mjesta.
-

5. Vozača na vanredni ljekarski pregled rješenjem upućuje:

- 1 radnik policije;
- 2 organ kod koga se vozač vodi u evidenciji;
- 3 nadležna zdravstvena organizacija.

6. **Visina motornih i priključnih vozila, uključujući izmjenjive nadgradnje za prihvatanje tereta kao i svih uređaja koji se pri vožnji nalaze na vozilu, može imati maksimalnu vrijednost:**

- 1 5,00m;
 - 2 4,00 m;
 - 3 3,00 m;
 - 4 4,50 m.
-

7. **Ako se na putu kreću dva ili više vozila koja prevoze opasne materije, odstojanje između tih vozila ne smije biti manje od:**

- 1 150 m;
 - 2 200 m;
 - 3 280 m.
-

8. **Da li je dozvoljeno da vozilo autoškole bude opremljeno video kamerom?**

- 1 da;
 - 2 ne.
-

9. **Za vrijeme osposobljavanja kandidata za vozača iz upravljanja motornim vozilom, kandidat za vozača pored identifikacionih dokumenata kod sebe mora imati i na zahtjev ovlaštenog lica pokazati sljedeću dokumentaciju:**

- 1 ljeakarsko uvjerenje;
 - 2 potvrdu o završenom osposobljavanju iz upravljanja motornim vozilom;
 - 3 uvjerenje o položenom ispitu iz pružanja prve pomoći;
 - 4 potvrdu o završenom osposobljavanju iz poznavanja propisa o bezbjednosti saobraćaja na putevima;
 - 5 uvjerenje o položenom ispitu iz poznavanja propisa o bezbjednosti saobraćaja na putevima za onu kategoriju za koju se kandidat osposobljava.
-

10. **Širina motornih i priključnih vozila, uključujući izmjenjive nadgradnje za prihvatanje tereta, kao i svih uređaja koji se pri vožnji nalaze na vozilu, izuzimajući uređaje za čišćenje snijega i vozila namijenjenih za zimsko održavanje puteva, može biti maksimalne vrijednosti-uopšteno:**

- 1 2,00 m;
- 2 2,50 m;
- 3 2,55 m;
- 4 4,50 m.

11. **Koliko maksimalno kandidata može biti u jednoj grupi za vrijeme trajanja nastave iz poznavanja propisa o bezbjednosti saobraćaja na putevima?**

- 1 najviše 20 kandidata u jednoj grupi;
 - 2 najviše 30 kandidata u jednoj grupi;
 - 3 najviše 25 kandidata u jednoj grupi.
-

12. **Koliko iz opravdanih razloga mogu odsustovati kandidati za vozača motornih vozila koji se osposobljavaju iz poznavanja propisa o bezbjednosti saobraćaja na putevima za kategorije A, B, C i podkategorije C1?**

- 1 najviše dva nastavna časa;
 - 2 najviše osam nastavnih časova;
 - 3 najviše četiri nastavna časa.
-

13. **Koje radnje nisu dozvoljene za vrijeme kretanja vozila?**

- 1 uskakati u vozilo i iskakati iz vozila;
 - 2 otvarati vrata, naginjati se van vozila;
 - 3 isturati dijelove tijela iz vozila i voziti se na vanjskim dijelovima vozila ili na traktorskim prikolicama.
 - 4 slušanje muzike.
-

14. **Da li se na točkove u toku zimskih uslova na kolovozu smiju postaviti lanci za snijeg?**

- 1 da;
 - 2 ne;
 - 3 da ukoliko visina sniježnog prekrivača prelazi 5 cm.
-

15. **U kojem godišnjem periodu je obavezno posjedovanje zimske opreme vozila?**

- 1 od 1. novembra tekuće do 1. aprila naredne godine;
- 2 od 15. novembra tekuće do 15. aprila naredne godine.

16. **Poluprečnik kruga znaka obavještenja u tunelima i galerijama iznosi:**

- 1 50 cm;
- 2 60 cm;
- 3 70 cm.

.....

17. **Oznake i brojevi na registarskim tablicama za motorna i priključna vozila i probnim tablicama ispisuju se slovima:**

- 1 A, E, J, K, M, T i arapskim brojevima;
- 2 A, E, B, C, T, J i arapskim brojevima
- 3 A, E, P, N, S, J i arapskim brojevima

.....

18. **Na dijelu puta s velikim uzdužnim nagibom na kojem je mimoilaženje vozila nemoguće ili je veoma otežano:**

- 1 vozač vozila koje se kreće niz nagib nastavlja kretanje bez zaustavljanja, bez obzira da li drugo vozilo ide u susret uz nagib;
- 2 vozač vozila koje se kreće niz nagib dužan je da zaustavi svoje vozilo na pogodnom mjestu, ako primijeti da mu drugo vozilo ide u susret uz nagib;
- 3 vozač vozila koje se kreće niz nagib nije dužan da zaustavi svoje vozilo na pogodnom mjestu, ako primijeti da mu drugo vozilo ide u susret uz nagib;

.....

19. **Da li se zaprežno vozilo smije ostavljati bez nadzora na putu ili uz put?**

- 1 ne;
- 2 da.

.....

20. **Lica koja se voze zaprežnim vozilom dok je vozilo u pokretu ne smiju:**

- 1 da stoje na vozilu;
- 2 sjediti na platou vozila sa strane;
- 3 da sjede na stranicama vozila;
- 4 se voziti zaprežnim vozilom;
- 5 da se nalaze na rudi vozila dok je vozilo u pokretu.

21 Koje značenje ima ovaj saobraćajni znak?

- 1 staza kojom se moraju kretati bicikli;
- 2 biciklistička staza;
- 3 zabrana kretanja za bicikle.



22 Tačan naziv saobraćajnog znaka je:

- 1 zabrana održavanja sportskih priredbi na putu;
- 2 prevrtanje ili iskliznuće vozila sa kolovoza.



23 Tačan naziv saobraćajnog znaka je:

- 1 obavezno zaustavljanje;
- 2 nailazak na put sa prvenstvom prolaza.



24 Tačan naziv saobraćajnog znaka je:

- 1 najveće odstojanje između vozila;
- 2 najmanje odstojanje između vozila.



25 Tačan naziv saobraćajnog znaka je:

- 1 zabrana saobraćaja za sva motorna vozila;
- 2 zabrana saobraćaja za sva motorna vozila, osim mopeda.



26 Koje značenje ima ovaj saobraćajni znak?

- 1 brzina koja je preporučena;
- 2 najmanja dopuštena brzina kretanja vozila;
- 3 ograničenje brzine.



27 Koje značenje ima ovaj saobraćajni znak?

- 1 zabrana saobraćaja za vozila koja na točkovima koriste lance;
- 2 označava početak dijela puta na kome motorna vozila, osim motocikla moraju imati propisanu zimsku opremu u zimskim uslovima.



28 Koje značenje ima ovaj saobraćajni znak?

- 1 obavezno se prestrojiti u desnu saobraćajnu traku;
- 2 najava završetka preticanja.




29 Koja motorna vozila je dozvoljeno preticati na putu označenim ovim saobraćajnim znakom?

- 1 motocikl bez prikolice i moped;
- 2 putničko vozilo.



30 Kako postupate za vrijeme upravljanja vozilom nailaskom na ovaj saobraćajni znak?

- 1 smanjujete brzinu kretanja vozila jer nailazite na oštru krivinu udesno;
- 2 izbjegavate kočenje u krivini;
- 3 povećavate brzinu kretanja vozila.



31 Kako ćete postupiti u saobraćajnoj situaciji kao na slici ako se vozač autobusa uključuje sa autobusnog stajalista u saobraćaj.

- 1 smanjiti brzinu kretanja vozila;
- 2 povećati brzinu kretanja vozila i proći prije autobusa;
- 3 po potrebi zaustaviti vozilo i omogućiti vozaču autobusa da se bezbjedno uključi u saobraćaj;



32 Kako ćete postupiti, ako je autobus, označen kao na slici, zaustavljen na kolovozu zbog ulaska i izlaska djece?

- 1 ako se krećem vozilom iza autobusa, zaustaviti se;
- 2 ako se krećem vozilom iza autobusa, nastaviti kretanje vozilom;
- 3 ako se krećem vozilom u susret autobusu, nastaviti kretanje vozilom;
- 4 ako se krećem vozilom u susret autobusu, zaustaviti se.



33 Kako trebate postupiti u saobraćajnoj situaciji kao na slici?

- 1 povećati brzinu kretanja vozila;
- 2 obratiti pažnju na postupke vozača vozila iz suprotnog smjera;
- 3 propustiti vozilo iz suprotnog smjera, a zatim proći dionicu na kojoj je suženje puta.



34 Kako ćete postupiti ako se krećete putem na kome se izvode radovi u saobraćajnoj situaciji kao na slici?

- 1 zaustaviti se jer se izvode radovi na saobraćajnoj traci kojom se krećem vozilom;
- 2 nastaviti kretanje vozilom jer je na semaforu upaljeno zeleno svjetlo.



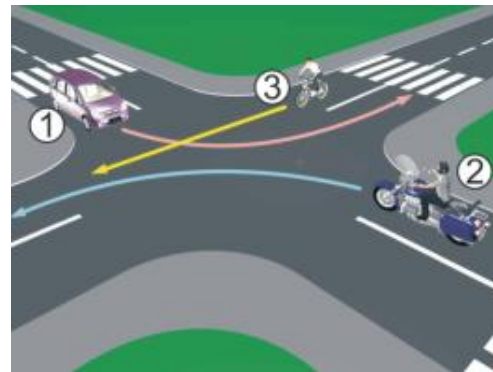
35 Kako ćete postupiti u saobraćajnoj situaciji kao na slici ukoliko upravljate crnim utomobilom?

- 1 obavezno se zaustaviti;
- 2 nastaviti kretanje vozilom uz povećani oprez;
- 3 obavezno izvršiti radnju skretanja udesno.



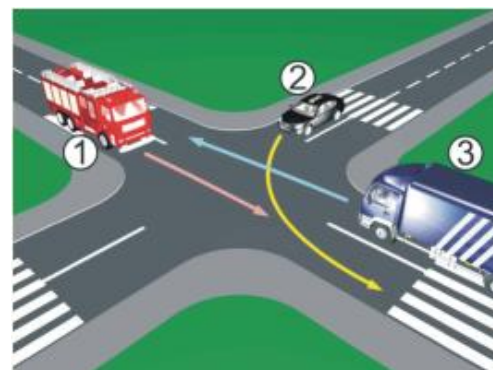
36 Koji je redoslijed prolaska vozila na raskrsnici u situaciji kao na slici?

- 1 2 – 3 – 1;
- 2 1 – 3 – 2;
- 3 2 – 1 – 3.



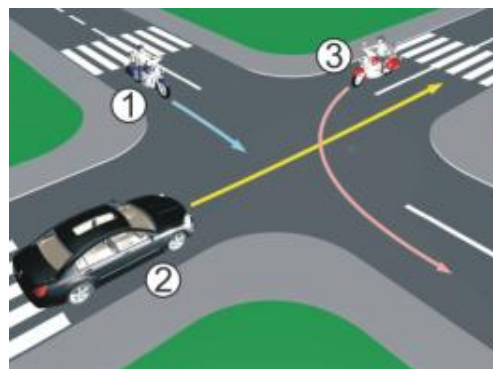
37 Koji je redoslijed prolaska vozila na raskrsnici u situaciji kao na slici?

- 1 3 – 2 – 1;
- 2 3 – 1 – 2;
- 3 1 – 2 – 3.



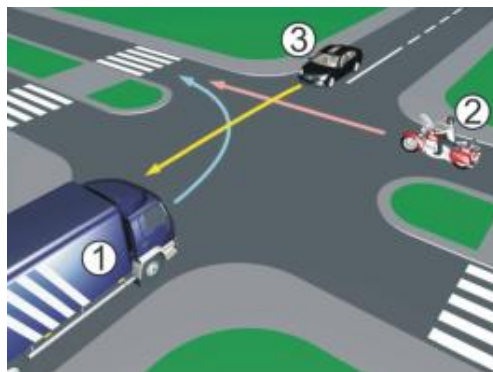
38 Koji je redoslijed prolaska vozila na raskrsnici u situaciji kao na slici?

- 1 1 – 2 – 3;
- 2 3 – 1 – 2;
- 3 2 – 1 – 3.



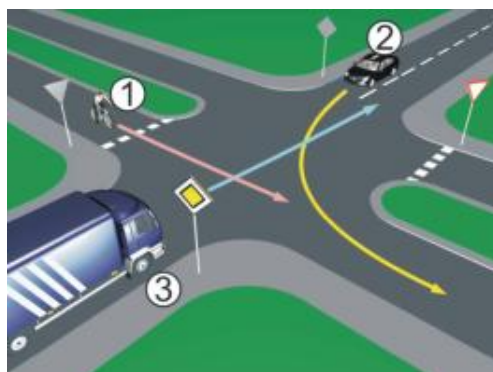
39 Koji je redoslijed prolaska vozila na raskrsnici u situaciji kao na slici?

- 1 3 – 2 – 1;
- 2 2 – 1 – 3;
- 3 1 – 2 – 3.



40 Koji je redoslijed prolaska vozila na raskrsnici u situaciji kao na slici?

- 1 3 – 2 – 1;
- 2 2 – 1 – 3;
- 3 1 – 3 – 2.



1	1	2	3	4	5
2	1	2	3	4	5
3	1	2	3	4	5
4	1	2	3	4	5
5	1	2	3	4	5
6	1	2	3	4	5
7	1	2	3	4	5
8	1	2	3	4	5
9	1	2	3	4	5
10	1	2	3	4	5
<input type="text"/> x <input type="text"/> 2 = <input type="text"/>					
11	1	2	3	4	5
12	1	2	3	4	5
13	1	2	3	4	5
14	1	2	3	4	5
15	1	2	3	4	5
16	1	2	3	4	5
17	1	2	3	4	5
18	1	2	3	4	5
19	1	2	3	4	5
20	1	2	3	4	5
<input type="text"/> x <input type="text"/> 2 = <input type="text"/>					
21	1	2	3	4	5
22	1	2	3	4	5
23	1	2	3	4	5
24	1	2	3	4	5
25	1	2	3	4	5
26	1	2	3	4	5
27	1	2	3	4	5
28	1	2	3	4	5
29	1	2	3	4	5
30	1	2	3	4	5
<input type="text"/> x <input type="text"/> 3 = <input type="text"/>					
31	1	2	3	4	5
32	1	2	3	4	5
33	1	2	3	4	5
34	1	2	3	4	5
35	1	2	3	4	5
36	1	2	3	4	5
37	1	2	3	4	5
38	1	2	3	4	5
39	1	2	3	4	5
40	1	2	3	4	5
<input type="text"/> x <input type="text"/> 5 = <input type="text"/>					

Ukupno negativnih: _____

auto škola driving school

LEMI FORCE

mob:062 294 509 www.lemiforce.ba

