

**1. Vozač je:**

1. svako lice koje se u saobraćaju na putu nalazi u vozilu;
  2. lice koje na putu upravlja vozilom.
- .....

**2. Kako se naziva uzdužni dio kolovoza namijenjen za saobraćaj vozila u jednom smjeru sa jednom ili više saobraćajnih traka?**

1. kolovozna traka;
  2. kolovoz;
  3. saobraćajna traka.
- .....

**3. Preglednost podrazumijeva:**

1. prostor koji učesnik u saobraćaju može da vidi sa mjesta na kojem se nalazi;
  2. mjesto na raskrsnici sa kojeg vozač vidi ulijevo i desno najmanje 25 m;
  3. mjesto na raskrsnici sa kojeg vozač vidi ulijevo najmanje 25 m.
- .....

**4. Stiker-naljepnica je:**

1. dokaz o izvršenom tehničkom pregledu;
  2. dokaz o plaćenju putarini;
  3. dokaz o izvršenoj registraciji vozila.
- .....

**5. Znakovi koje učesnicima u saobraćaju daje ovlašćeno lice su:**

1. znakovi koji se daju rukama i položajem tijela;
2. znakovi koji se daju gestikulacijom i mimikom;
3. zvučni i svjetlosni znakovi.

**6. Iznad kolovoza javnog puta mora da postoji slobodan prostor u visini od najmanje:**

1. 4,5 m od najviše tačke kolovoza;
  2. 4 m od najviše tačke kolovoza;
  3. 6 m od najviše tačke kolovoza.
- .....

**7. Šta utiče na produženje puta kočenja?**

1. mokar kolovoz;
  2. suh kolovoz;
  3. opterećenje vozila.
- .....

**8. Da li se na vozila službe hitne pomoći i vatrogasna vozila, kada posebnim uređajima daju svjetlosne i zvučne znakove primjenju odredbe o ograničenju brzine?**

1. ne, pod uslovom da ne ugrožavaju bezbjednost drugih učesnika u saobraćaju;
  2. da;
  3. ne
- .....

**9. Novoprodukovana motorna i priključna vozila, nakon tehničkog pregleda prije prve registracije, vlasnici su dužni podvrgnuti redovnom tehničkom pregledu?**

1. u toku mjeseca u kojem ističe rok od 24 mjeseca od dana prve registracije vozila, te u toku mjeseca u kojem ističe rok od 36 mjeseci od dana prve registracije vozila;
  2. u toku mjeseca u kojem ističe rok od 12 mjeseca od dana prve registracije vozila, te u toku mjeseca u kojem ističe rok od 36 mjeseci od dana prve registracije vozila;
  3. u toku mjeseca u kojem ističe rok od 24 mjeseca od dana prve registracije vozila, te u toku mjeseca u kojem ističe rok od 48 mjeseci od dana prve registracije vozila.
- .....

**10. Ljekarsko uvjerenje o zdravstvenoj sposobnosti za upravljanje motornim vozilom važi?**

1. 12 mjeseci od dana izdavanja;
2. 6 mjeseci od dana izdavanja.

**11. Kako svojim ponašanjem u saobraćaju, za vrijeme upravljanja vozilom, možete doprinijeti smanjenju saobraćajnog rizika?**

1. agresivnom vožnjom;
  2. poštovanjem saobraćajnih pravila i propisa;
  3. defanzivnom vožnjom.
  4. nervoznom vožnjom
- .....

**12. Pod kojim uslovima vozač bicikla stariji od 18 godina može na javnom putu biciklom prevoziti dijete do osam godina starosti:**

1. ako dijete na glavi nosi zakopčanu zaštitnu kacigu;
  2. ako dijete na glavi ne nosi zakopčanu zaštitnu kacigu;
  3. ako je na biciklu ugrađeno posebno sjedište, prilagođeno uzrastu djeteta i čvrsto spojeno sa biciklom.
- .....

**13. Kako djeca najčešće reaguju u saobraćaju?**

1. razumno i staloženo;
  2. u skladu sa propisima;
  3. spontano i nepredvidivo.
- .....

**14. Da li je vozač koji se kreće mokrim kolovozom u naselju dužan da prilagodi brzinu kretanja vozila tako da izbjegne prskanje pješaka koji se kreću ivicom kolovoza ili trotoara?**

1. ne;
  2. da
- .....

**15. Zaustavljanje vozila je:**

1. svaki prekid kretanja vozila na putu u trajanju do 15 minuta, osim prekida koji se pravi da bi se postupilo po znaku ili pravilu kojim se reguliše saobraćaj;
2. svaki prekid kretanja vozila na putu u trajanju do 5 minuta, osim prekida koji se pravi da bi se postupilo po znaku ili pravilu kojim se reguliše saobraćaj.

**16. Pješak je:**

1. lice koje učestvuje u saobraćaju, a ne upravlja vozilom, niti se prevozi u vozilu ili na vozilu;
  2. lice koje upravlja vozilom, ili se prevozi u vozilu ili na vozilu.
- .....

**17. Koliko kolovoznih traka ima put sa jednosmjernim saobraćajem?**

1. dvije kolovozne trake;
  2. jednu kolovoznu traku;
  3. više od dvije kolovozne trake.
- .....

**18. Prelaz alkohola u krv (resorpcija alkohola), završi se?**

1. najkasnije nakon jednog sata od konzumiranja alkohola;
  2. najkasnije nakon 24 sata od konzumiranja alkohola.
- .....

**19. Smanjena vidljivost postoji kada, zbog nepovoljnih atmosferskih ili drugih prilika, vozač ne može jasno da uoči druge učesnike u saobraćaju:**

1. od najmanje 100 m izvan naselja, odnosno najmanje 50 m u naselju;
  2. od najmanje 200 m na putu izvan naselja, odnosno od najmanje 100 m u naselju.
- .....

**20. Autoputem ne smiju da se kreću motorna vozila koja prema svojim konstrukcionim osobinama ne mogu da se kreću brzinom većom?**

1. 40 km/h;
2. 60 km/h.

**21. Šta treba izbjegavati nailaskom na ovaj saobraćajni znak?**

- 1 vožnju prilagođenu uslovima koji vladaju na kolovozu;
- 2 nagle pokrete točkom upravljača;
- 3 naglo kočenje i zaustavljanje.



**22. Kako treba postupiti nailaskom na ovaj saobraćajni znak?**

- 1 pripremiti se za savladavanje više uzastopnih krivina od kojih je prva udesno;
- 2 učesnike u saobraćaju iza sebe upozoriti desnim pokazivačem pravca;



**23. Na koju opasnost upozorava ovaj saobraćajni znak?**

- 1 na blizinu dijela puta gdje je uz kolovoz neutvrđena bankina;
- 2 na blizinu dijela puta gdje je zaleđen kolovoz.



**24. Kako ćete postupiti nailaskom na ovaj saobraćajni znak?**

- 1 nastaviti kretanje vozilom jer imam prvenstvo prolaza;
- 2 smanjiti brzinu kretanja vozila i po potrebi zaustaviti vozilo;
- 3 propustiti vozila iz suprotnog smjera.



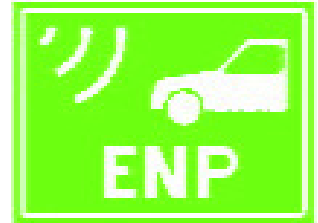
**25. Tačan naziv saobraćajnog znaka je?**

- 1 zabrana saobraćaja za sva motorna vozila koja vuku priključno vozilo;
- 2 zabrana saobraćaja za sva motorna vozila koja vuku laku prikolicu.



26. Tačan naziv saobraćajnog znaka je:

- 1 elektronska naplata putarine;
- 2 zabrana korištenja radio-aparata u vozilu.



27. Tačan naziv saobraćajnog znaka je:

- 1 niša za zaustavljanje vozila u slučaju opasnosti;
- 2 prostor rezervisan za zaustavljanje vozila javnog gradskog prevoza.



28. Tačan naziv saobraćajnog znaka je:

- 1 radionica za popravak guma;
- 2 mjesto gdje možete kontrolisati pritisak u gumama.



29. Kako treba postupiti nailaskom na ovaj saobraćajni znak?

- 1 povećavati pažnju;
- 2 pružiti pomoć povrijeđenim u saobraćajnoj nezgodi
- 3 povećavati brzinu kretanja vozila.



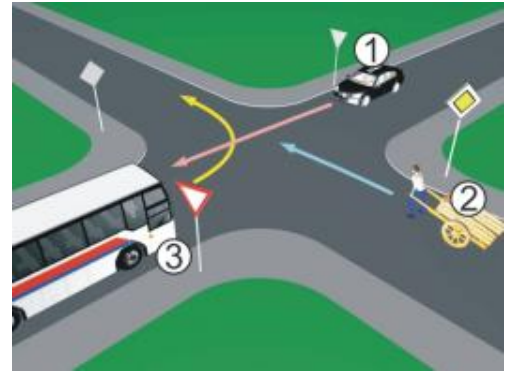
30. Koje značenje ima ovaj saobraćajni znak?

- 1 ulazak u područje u kojem postoji povećana opasnost od izbijanja nekontrolisanog požara;
- 2 ulazite u područje gdje je dozvoljeno izletnicima paljenje vatre.



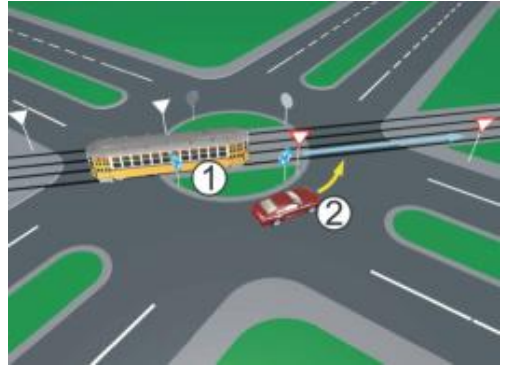
**31 Koji je redosljed prolaska vozila na raskrsnici u situaciji kao na slici?**

1. 2 – 3 – 1;
2. 2 – 1 – 3;
3. 1 – 3 – 2.



**32 Koji je redosljed prolaska vozila na raskrsnici u situaciji kao na slici?**

1. 1 – 2;
2. 2 – 1.



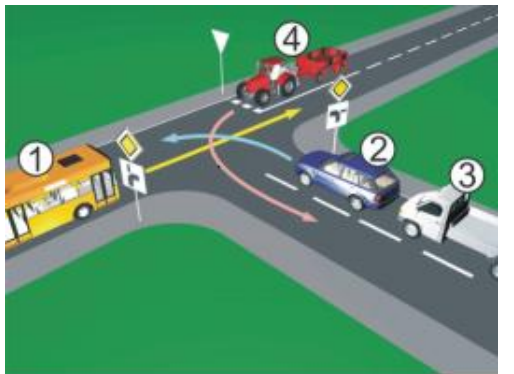
**33 Kako u saobraćajnoj situaciji kao na slici mora postupiti vozač vozila broj 1?**

1. proći kroz raskrsnicu prije vozila broj 2, a propustiti vozilo broj 3;
2. propustiti vozilo broj 2, a zatim proći kroz raskrsnicu prije vozila broj 3.



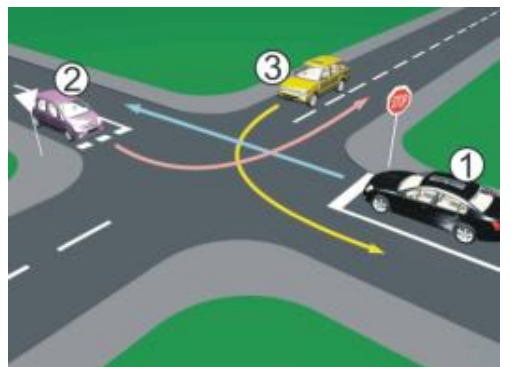
**34 Koji je redosljed prolaska vozila na raskrsnici u situaciji kao na slici?**

1. 2 – 3 – 4 – 1;
2. 2 – 3 – 1 – 4;
3. 1 – 2 – 3 – 4.



**35 Kako u saobraćajnoj situaciji kao na slici mora postupiti vozač vozila broj 1:**

1. propustiti vozilo broj 3, a zatim proći prije vozila broj 2;
2. propustiti vozilo broj 3, zatim propustiti vozilo broj 2 i zadnji proći kroz raskrsnicu.



36 Koji je redoslijed prolaska vozila na raskrsnici u situaciji kao na slici?

1. 3 – 1 – 2 – 4;
2. 4 – 2 – 1 – 3;
3. 3 – 4 – 2 – 1.



37 Koji je redoslijed prolaska vozila na raskrsnici u situaciji kao na slici?

1. 2 – 3 – 1;
2. 2 – 1 – 3;
3. 3 – 1 – 2.



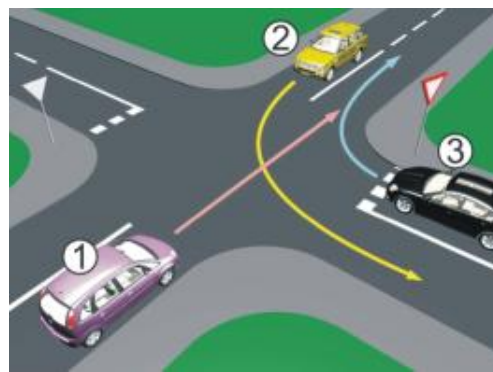
38 Koji je redoslijed prolaska vozila na raskrsnici u situaciji kao na slici?

1. 5 – 4 – 3 – 2 – 1;
2. 1 – 2 – 3 – 4 – 5.



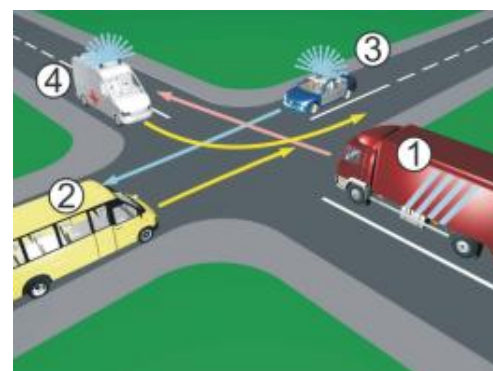
39 Koji je redoslijed prolaska vozila na raskrsnici u situaciji kao na slici?

1. 2 – 3 – 1;
2. 1 – 2 – 3;
3. 3 – 1 – 2.



40 Koji je redoslijed prolaska vozila na raskrsnici u situaciji kao na slici?

1. 4 – 3 – 1 – 2;
2. 3 – 4 – 1 – 2;
3. 4 – 3 – 2 – 1.





1	1	<del>2</del>	3	4	5
2	<del>1</del>	2	3	4	5
3	<del>1</del>	2	3	4	5
4	1	2	<del>3</del>	4	5
5	<del>1</del>	2	<del>3</del>	4	5
6	<del>1</del>	2	3	4	5
7	<del>1</del>	2	<del>3</del>	4	5
8	<del>1</del>	2	3	4	5
9	1	2	<del>3</del>	4	5
10	<del>1</del>	2	3	4	5
<input type="text"/> x 2 = <input type="text"/>					

11	1	<del>2</del>	<del>3</del>	4	5
12	<del>1</del>	2	<del>3</del>	4	5
13	1	2	<del>3</del>	4	5
14	1	<del>2</del>	3	4	5
15	1	2	3	4	5
16	<del>1</del>	2	3	4	5
17	1	<del>2</del>	3	4	5
18	<del>1</del>	2	3	4	5
19	1	<del>2</del>	3	4	5
20	<del>1</del>	2	3	4	5
<input type="text"/> x 2 = <input type="text"/>					

21	1	<del>2</del>	<del>3</del>	4	5
22	<del>1</del>	2	3	4	5
23	<del>1</del>	2	3	4	5
24	1	<del>2</del>	<del>3</del>	4	5
25	<del>1</del>	2	3	4	5
26	<del>1</del>	2	3	4	5
27	<del>1</del>	2	3	4	5
28	<del>1</del>	2	3	4	5
29	<del>1</del>	<del>2</del>	3	4	5
30	<del>1</del>	2	3	4	5
<input type="text"/> x 3 = <input type="text"/>					

31	1	2	<del>3</del>	4	5
32	<del>1</del>	2	3	4	5
33	1	<del>2</del>	3	4	5
34	1	<del>2</del>	3	4	5
35	<del>1</del>	2	3	4	5
36	1	2	<del>3</del>	4	5
37	<del>1</del>	2	3	4	5
38	<del>1</del>	2	3	4	5
39	1	<del>2</del>	3	4	5
40	<del>1</del>	2	3	4	5
<input type="text"/> x 5 = <input type="text"/>					

Ukupno negativnih: \_\_\_\_\_

