

**1. Izdata vam je vozačka dozvola za A1 kategoriju. Kojim vozilima imate pravo upravljati?**

- 1 lakim motociklom čija zapremina motora ne prelazi 125cm<sup>3</sup>, a snaga ne prelazi 11kW;
  - 2 triciklom i četvorociklom na motorni pogon.
- .....

**2. Da li vozilo auto-škole u kojem se obavlja osposobljavanje i polaganje ispita iz upravljanja motornim vozilom za kategoriju B mora imati u opremi i aparat za gašenje požara?**

- 1 da;
  - 2 ne.
- .....

**3. Pod pojmom „najveća dozvoljena masa“ vozila je:**

- 1 ukupna masa vozila;
  - 2 masa vozila zajedno sa njegovom nosivošću.
- .....

**4. Motornim vozilom smije da se vuče samo priključno vozilo koje:**

- 1 nije teže i duže od vučnog vozila;
  - 2 spada u istu kategoriju vučnog vozila;
  - 3 bitno ne umanjuje stabilnost vučnog vozila.
- .....

**5. Odstojanje između vučnog i vučenog motornog vozila ako se vuče pomoću užeta mora iznositi:**

- 1 od 3 m do 5 m;
- 2 preko 2 m;
- 3 manje od 3 m.

**6. Da li se vozila koja prevoze opasne materije smiju vući odnosno koristiti za vuču drugih vozila?**

1 ne;

2 da.

.....

**7. Da li je vučenim vozilom, osim lica koje upravlja vučenim vozilom, dozvoljeno prevoziti druga lica?**

1 ne;

2 da.

.....

**8. Nosivost je dozvoljena masa do koje vozilo smije da se optereti:**

1 prema vučnim osobinama vozila;

2 prema deklaraciji proizvođača vozila;

3 prema deklaraciji proizvođača tereta kojeg prevozi.

.....

**9. Kada je motorno vozilo na putu dozvoljeno vući pomoću užeta?**

1 kad su ispravni uređaji za upravljanje i uređaji za zaustavljanje;

2 zavisno od vremenskih prilika;

3 kad je ispravan samo uređaj za zaustavljanje.

.....

**10. Da li je dozvoljeno da se na autoput uključi motorno vozilo koje vuče drugo motorno vozilo koje se zbog neispravnosti ne može kretati?**

1 ne;

2 samo u uslovima dobre vidljivosti;

3 da .

**11. Vozač ne čini povredu propisa ako teret na vozilu kojim upravlja prelazi najudaljeniju tačku na prednjoj strani vozila:**

- 1 više od 1 m ali ne više od 2 m, ako je prednji dio tereta obilježen crvenom tkaninom;
  - 2 za 80 cm;
  - 3 za 100 cm;
  - 4 za dužinu koja nije propisana, ako je prednji dio tereta obilježen odgovarajućom tablom.
- .....

**12. Odgovarajućom metodom utvrđeno je da vozač u krvi ima 0,2 g/kg. Smatra se da je taj vozač pod dejstvom alkohola ukoliko upravlja vozilom:**

- 1 bilo koje kategorije;
  - 2 kategorija C ili CE;
  - 3 kategorija D ili DE;
  - 4 kategorije A.
- .....

**13. Na teretnom vozilu u prostoru za smještaj tereta može se prevoziti:**

- 1 najviše 10 lica koja utovaraju ili istovaraju teret ili obavljaju druge radnje;
  - 2 najviše 5 lica koja utovaraju ili istovaraju teret ili obavljaju druge radnje;
  - 3 najviše 7 lica koja utovaraju ili istovaraju teret ili obavljaju druge radnje.
- .....

**14. Da li se u zatvorenom prostoru vozila koje se ne može otvoriti iznutra smiju prevoziti lica?**

- 1 da;
  - 2 ne.
- .....

**15. U zaštitnom pojasu javnog puta van naselja mogu se postavljati natpisi za reklame, i to pored magistralnog i regionalnog puta:**

- 1 na razdaljini od najmanje 12 metara, računajući od krajnje tačke poprečnog profila;
- 2 na razdaljini od najmanje 10 metara, računajući od krajnje tačke poprečnog profila;
- 3 na razdaljini od najmanje 15 metara, računajući od krajnje tačke poprečnog profila.

**16. Nadležni organ za izdavanje vozačke dozvole oduzeće i poništiti vozačku dozvolu licu koje u toku dvije godine od dana sticanja prava upravljanja motornim vozilom kategorije B sakupi:**

- 1 četiri kaznena boda;
  - 2 šest kaznenih bodova;
  - 3 pet kaznenih bodova.
- .....

**17. Teret koji se prevozi na vozilu i priključnom vozilu može da pređe najudaljeniju tačku na zadnjoj strani vozila najviše za:**

- 1 jednu desetinu svoje dužine koja je kao kontinuiran teret oslonjena na tovarni prostor;
  - 2 jednu šestinu svoje dužine koja je kao kontinuiran teret oslonjena na tovarni prostor;
  - 3 jednu petinu svoje dužine koja je kao kontinuiran teret oslonjena na tovarni prostor;
  - 4 jednu četvrtinu svoje dužine koja je kao kontinuiran teret oslonjena na tovarni prostor.
- .....

**18. Pod izrazom trolejbus podrazumijeva se:**

- 1 vozilo na šinama s električnim pogonom, namijenjeno za javni prevoz putnika i koje je, radi napajanja motora električnom energijom, vezano za električni vod;
  - 2 vozilo na šinama s električnim pogonom, namijenjeno za javni prevoz putnika koje, osim sjedišta za vozača, ima više od osam sjedišta i koje, radi napajanja motora električnom energijom, ima kontakt s električnim provodnikom;
  - 3 motorno vozilo namijenjeno za javni prevoz putnika koje, osim sjedišta za vozača, ima više od osam sjedišta i koje, radi napajanja motora električnom energijom, ima kontakt s električnim provodnikom.
- .....

**19. Javni put čini:**

- 1 vazdušni prostor iznad kolovoza u visini od sedam metara, računajući od najviše tačke kolovoza;
  - 2 vazdušni prostor iznad kolovoza u visini od pet metara, računajući od najviše tačke kolovoza;
  - 3 vazdušni prostor iznad kolovoza u visini od tri metra, računajući od najviše tačke kolovoza.
- .....

**20. Slobodan hod točka upravljača na vozilu ne smije biti veći?**

- 1 od 30°;
- 2 od 45°;
- 3 od 60°.

**21 Tačan naziv saobraćajnog znaka je:**

- 1 zabrana saobraćaja za vozila koja prevoze opasne materije;
- 2 zabrana saobraćaja za teretna vozila koja prevoze opasne materije



**22 Tačan naziv saobraćajnog znaka je:**

- 1 zabrana saobraćaja za vozila koja prekoračuju određeno dvoosovinsko opterećenje;
- 2 zabrana saobraćaja za vozila čije opterećenje po jednostrukoj osovini prelazi opterećenje označeno na znaku.



**23 Tačan naziv saobraćajnog znaka je:**

- 1 pješačka staza;
- 2 zona smirenog saobraćaja.



**24 Tačan naziv saobraćajnog znaka je:**

- 1 put sa jednosmjernim saobraćajem;
- 2 obavezan smjer.



**25 Koja vozila se obilježavaju oznakom kao na slici?**

- 1 duga vozila;
- 2 vozila čija širina prelazi 2,5 m.



**26 Šta može imati za posljedicu nepoštovanje ovog znaka?**

- 1 moguće zanošenje i izlijetanje vozila sa kolovoza;
- 2 veću kontrolu prilikom upravljanja vozilom;
- 3 moguće oštećenje ili lomljenje dijelova na vozilu.



**27 Tačan naziv saobraćajnog znaka je?**

- 1 pokretni most;
- 2 blizina obale.



**28 Tačan naziv saobraćajnog znaka je?**

- 1 životinje na putu;
- 2 divljač na putu.



**29 Tačan naziv saobraćajnog znaka je?**

- 1 zabrana preticanja svih motornih vozila, osim motocikla bez prikolice i mopeda;
- 2 zabrana preticanja svih motornih vozila, osim mopeda.



**30 Koje značenje ima ovaj saobraćajni znak?**

- 1 zabrana prelaza za bicikl;
- 2 obilježeni prelaz biciklističke staze.



**31 U saobraćajnoj situaciji kao na slici učesnici u saobraćaju će proći kroz raskrslu sljedećim redosljedom:**

- 1 oba bicikla, crveni automobil, zeleni automobil;
- 2 zeleni automobil, crveni automobil, pa bicikli;
- 3 oba bicikla, zeleni automobil, crveni automobil.



**32 U saobraćajnoj situaciji kao na slici vozač vozila koje se nalazi u srednjoj saobraćajnoj traci:**

- 1 mora nastaviti kretanje vozilom pravo, jer nije pravovremeno izvršio radnju prestrujavanja;
- 2 ne smije izvršiti radnju skretanja ulijevo, jer čini prekršaj;
- 3 sačekaće sva vozila da skrenu ulijevo, a potom izvršiti radnju skretanja ulijevo.



**33 U saobraćajnoj situaciji kao na slici, plavi putnički automobil:**

- 1 ne čini prekršaj jer je prelaz preko pruge regulisan svjetlosnim saobraćajnim znakovima;
- 2 čini prekršaj.



**34 Kako ćete postupiti u saobraćajnoj situaciji kao na slici ukoliko automobilom skrećete udesno?**

- 1 propustiću biciklistu, a zatim vršim radnju skretanja udesno;
- 2 vozim istovremeno sa biciklistom.



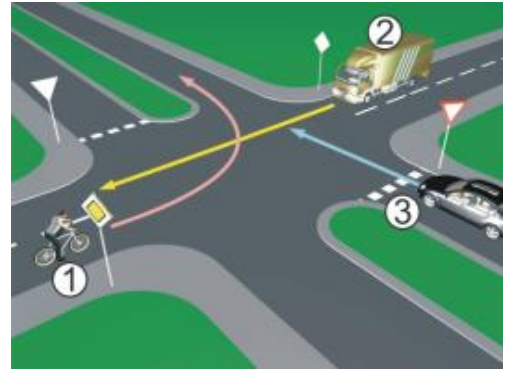
**35 Kako treba postupiti u saobraćajnoj situaciji kao na slici?**

- 1 povećati brzinu kretanja vozila;
- 2 obratiti pažnju na postupke vozača vozila iz suprotnog smjera;
- 3 povećati pažnju i prije vozila iz suprotnog smjera proći dionicu na kojoj je suženje puta.



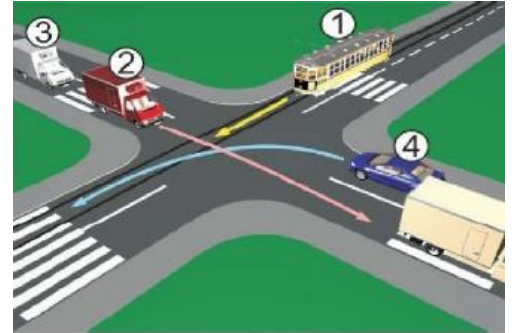
36 Koji je redosljed prolaska vozila na raskrsnici u situaciji kao na slici?

- 1 2 – 1 – 3;
- 2 3 – 1 – 2;
- 3 3 – 2 – 1.



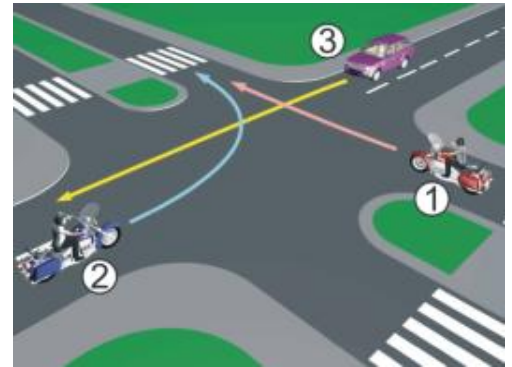
37 Koji je redosljed prolaska vozila na raskrsnici u situaciji kao na slici?

- 1 1 – 2 – 3 – 4;
- 2 4 – 1 – 2 – 3;
- 3 2 – 3 – 4 – 1.



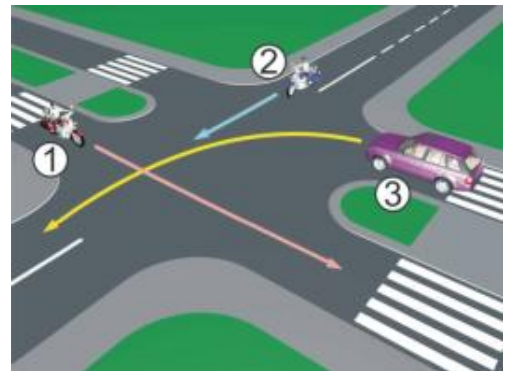
38 Koji je redosljed prolaska vozila na raskrsnici u situaciji kao na slici?

- 1 3 – 1 – 2;
- 2 2 – 1 – 3;
- 3 1 – 2 – 3.



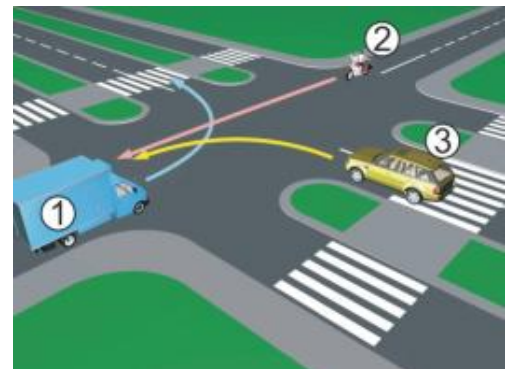
39 Koji je redosljed prolaska vozila na raskrsnici u situaciji kao na slici?

- 1 3 – 2 – 1;
- 2 1 – 2 – 3;
- 3 2 – 1 – 3.



40 Koji je redosljed prolaska vozila na raskrsnici u situaciji kao na slici?

- 1 1 – 3 – 2;
- 2 2 – 3 – 1;
- 3 3 – 2 – 1.





1	<del>1</del>	2	3	4	5
2	<del>1</del>	2	3	4	5
3	1	<del>2</del>	3	4	5
4	1	2	<del>3</del>	4	5
5	<del>1</del>	2	3	4	5
6	<del>1</del>	2	3	4	5
7	1	<del>2</del>	3	4	5
8	1	<del>2</del>	3	4	5
9	<del>1</del>	2	3	4	5
10	<del>1</del>	2	3	4	5
x 2 =					

11	1	<del>2</del>	<del>3</del>	4	5
12	1	<del>2</del>	<del>3</del>	4	5
13	1	<del>2</del>	3	4	5
14	1	<del>2</del>	3	4	5
15	1	<del>2</del>	3	4	5
16	<del>1</del>	2	3	4	5
17	1	<del>2</del>	3	4	5
18	1	2	<del>3</del>	4	5
19	<del>1</del>	2	3	4	5
20	<del>1</del>	2	3	4	5
x 2 =					

21	<del>1</del>	2	3	4	5
22	<del>1</del>	2	3	4	5
23	<del>1</del>	2	3	4	5
24	1	<del>2</del>	3	4	5
25	<del>1</del>	2	3	4	5
26	<del>1</del>	2	<del>3</del>	4	5
27	1	<del>2</del>	3	4	5
28	<del>1</del>	2	3	4	5
29	<del>1</del>	2	3	4	5
30	1	<del>2</del>	3	4	5
x 3 =					

31	1	2	<del>3</del>	4	5
32	<del>1</del>	<del>2</del>	3	4	5
33	1	<del>2</del>	3	4	5
34	<del>1</del>	2	3	4	5
35	1	<del>2</del>	<del>3</del>	4	5
36	<del>1</del>	2	3	4	5
37	<del>1</del>	2	3	4	5
38	<del>1</del>	2	3	4	5
39	1	<del>2</del>	3	4	5
40	1	<del>2</del>	3	4	5
x 5 =					

Ukupno negativnih: \_\_\_\_\_

