

1. „Brzi put“, u pravilu:

- 1 nema zaustavnih traka;
- 2 ima zaustavnih traka.



2. Međunarodna vozačka dozvola izdaje se na period važenja od:

- 1 jedne godine;
- 2 dvije godine, odnosno na period propisan međunarodnim ugovorom;
- 3 tri godine.



3. Izdata vam je vozačka dozvola za C1 podkategoriju. Kojim vozilima imate pravo upravljati?

- 1 vozilima koja, osim sjedišta za vozača, imaju više od osam sjedišta, a manje od šesnaest sjedišta;
- 2 vozilima čija je najveća dozvoljena masa veća od 3500kg, a manja od 7500 kg.



4. Vozačka dozvola koja se izdaje licu starijem od 65 godina života produžava se sa rokom važenja od:

- 1 tri godine;
- 2 dvije godine.
- 3 deset godina.

5. Ispod slova „L” na tablici kojom se obilježava vozilo za osposobljavanje kandidata za vozača iz upravljanja motornim vozilom upisuje se:

- 1 broj instruktorske dozvole instruktora vožnje;
- 2 registarski broj vozila za koje se tablica koristi.



6. Ispod slova „P” kojim se obilježava vozilo kojim upravlja vozač početnik mora biti ispisan:

- 1 registarski broj vozila;
- 2 broj vozačke dozvole vozača početnika.

P
23ABC342

7. Najmanja dopuštena dubina kanala na gaznoj površini pneumatika za putnička vozila je:

- 1 1 mm;
- 2 1,6 mm;
- 3 2 mm.



8. Šta je parkiranje?

- 1 prekid kretanja vozila u trajanju dužem od pet minuta, osim prekida koji se pravi da bi se postupilo po znaku ili pravilu kojim se reguliše saobraćaj;
- 2 prekid kretanja vozila u trajanju do pet minuta, osim prekida koji se pravi da bi se postupilo po znaku ili pravilu kojim se reguliše saobraćaj;
- 3 prekid kretanja vozila u trajanju dužem od tri minute, uključujući i prekide koji se prave da bi se postupilo po znaku ili pravilu kojim se reguliše saobraćaj.



9. Brzi put je javni put koji:

- 1 je namijenjen za saobraćaj isključivo motornih vozila sa jednom ili dvije razdvojene kolovozne trake;
- 2 povezuje veće gradove i važnija privredna područja Bosne i Hercegovine;
- 3 ima sve raskrsnice u dva ili više nivoa sa poprečnim putevima i drugim saobraćajnicama (željezničkim prugama ili tramvajskim prugama);
- 4 povezuje važnija privredna područja Bosne i Hercegovine.



10. U kom slučaju će vozaču biti oduzeta vozačka dozvola u trajanju od 30 dana?

- 1 ako mu, u roku od jedne godine, zbog učinjenih prekršaja iz Zakona o osnovama bezbjednosti saobraćaja na putevima u BiH bude određeno najmanje 7 kaznenih bodova;
- 2 ako mu, u roku od jedne godine zbog učinjenih prekršaja iz Zakona o osnovama bezbjednosti saobraćaja na putevima u BiH, bude određeno najmanje 10 kaznenih bodova.

11. Kojim vozilima imate pravo upravljati ukoliko imate vozačku dozvolu B kategorije?

- 1 mopedom;
- 2 četvorociklom.
- 3 vozilima čija je najveća dozvoljena masa veća od 3500 kg.



12. Vozaču kojem je u roku od jedne godine zbog učinjenih prekršaja iz Zakona o osnovama bezbjednosti saobraćaja na putevima u Bosni i Hercegovini određeno najmanje 10 kaznenih bodova:

- 1 biće oduzeta vozačka dozvola u trajanju od 60 dana;
- 2 biće oduzeta vozačka dozvola u trajanju od 30 dana;
- 3 biće upućen na provjeru poznavanja saobraćajnih propisa.

13. Vozač koji na provjeri poznavanja saobraćajnih propisa ne pokaže potrebno znanje može, na svoj zahtjev, pristupiti ponovo provjeri:

- 1 poslije isteka 15 dana od dana prethodne provjere;
- 2 poslije isteka 30 dana od dana prethodne provjere.

14. Uređaj za vožnju unazad, kad je upaljen, mora osvjetljivati put svjetlom:

- 1 bijele boje;
- 2 bijele ili žute boje.



15. Osnovna boja znakova opasnosti je?

- 1 žuta a ivice trougla su crvene;
- 2 plava a simboli i natpisi su bijele boje;
- 3 bijela a ivice trougla su crvene.



16. Uređaj za upravljanje vozilom mora biti pouzdan i izveden tako da:

- 1 vozač može lako, brzo i na siguran način mijenjati smjer kretanja vozila;
- 2 se prednji točkovi vozila, pri kretanju vozila po vodoravnoj ravnoj površini, nakon oslobađanja točka upravljača, sami vraćaju u položaj za pravolinijsko kretanje;
- 3 omogućava slobodan hod točka upravljača na vozilu veći od 30°.



17. Kako će ovlašteno lice postupiti prema vozaču koji odbije da se podvrgne ispitivanju, odnosno stručnom pregledu na koji je upućen radi provjeravanja da li ima alkohola u organizmu ili da li pokazuje znakove poremećenosti izazavane dejstvom alkohola?

- 1 odrediće mu rok u kojem se mora podvrgnuti ispitivanju, odnosno pregledu;
- 2 na licu mjesta čemu privremeno oduzeti vozačku dozvolu;
- 3 isključiti vozilo iz saobraćaja.



18. Vozač koji na putu susretne vozilo ili kolonu vozila pod pratnjom i vozač kojeg sustigne vozilo ili kolona vozila pod pratnjom dužan je:

- 1 da obavezno zaustavi svoje vozilo i propusti vozila pod pratnjom;
- 2 da ustupi prvenstvo prolaza, omogućiti nesmetan prolaz vozilima pod pratnjom, a po potrebi i zaustavi svoje vozilo;
- 3 da umjesto dugih svjetala noću upotrijebi kratka svjetla za osvijetljavanje puta;
- 4 da se strogo pridržava naredbi koje im daju lica iz pratnje i kretanje nastavi tek kad prođu sva vozila pod pratnjom.



19. Radna mašina po svojim konstrukcionim osobinama ne može razviti brzinu veću od:

- 1 25 km/h;
- 2 30 km/h;
- 3 40 km/h.



20 „Centralni registar“ je evidencija:

- 1 samo o vozačima;
- 2 samo o vozilima;
- 3 o svim vozačima i vozilima.

21 Tačan naziv saobraćajnog znaka je?

- 1 ukrštanje puteva istog značaja;
- 2 ukrštanje sporednih puteva pod oštrim uglom.



22 Tačan naziv saobraćajnog znaka je?

- 1 pokretni most;
- 2 blizina obale.




23 Koje značenje ima ovaj saobraćajni znak?

- 1 zabrana saobraćaja u oba smjera;
- 2 zabrana saobraćaja u smjeru kretanja vozila;
- 3 da se saobraćaj odvija iz suprotnog smjera.




24 Koje značenje ima ovaj saobraćajni znak?

- 1 produžetak puta sa prvenstvom prolaza;
- 2 završetak puta ili dijela puta sa prvenstvom prolaza.



25 Kako ćete postupiti nailaskom na ovaj saobraćajni znak?

- 1 uz povećanu pažnju nastaviti kretanje vozilom, jer imam pravo prvenstva prolaza u odnosu na vozila koja dolaze iz suprotnog smjera;
- 2 zaustaviti vozilo i propustiti vozila iz suprotnog smjera.



26 Kako ćete postupiti nailaskom na ovaj saobraćajni znak?

- 1 smanjiti brzinu kretanja vozila do brzine hoda pješaka;
- 2 povećati brzinu kretanja vozila.



27 Kojim vozilima je dozvoljeno kretanje putem označenim ovim saobraćajnim znakom?

- 1 bicikl;
- 2 putničko vozilo, teretno vozilo, autobus;
- 3 motocikl.



28 Koja vozila se obilježavaju znakom kao na slici?

- 1 vozila koja prevoze opasne materije;
- 2 spora vozila;



29 Koje značenje ima ovaj saobraćajni znak?

- 1 opasnost za koju nije predviđen poseban znak;
- 2 opasnost kad se krećemo klizavim kolovozom.



30 Koje značenje ima ovaj saobraćajni znak?

- 1 mjesto na putu gdje je postavljeno preventivno ulegnuće kao objekat koji se koristi za smirivanje saobraćaja.
- 2 mjesto na putu gdje je postavljena preventivna izbočina kao objekat koji se koristi za smirivanje saobraćaja.



31 Kako trebate postupiti u saobraćajnoj situaciji kao na slici?

- 1 obavezno se zaustaviti;
- 2 nastaviti kretanje vozilom ulijevo, nakon propuštanja vozila koja dolaze sa desne strane;
- 3 nakon što se na semaforu upali zeleno svjetlo, nastaviti kretanje vozilom ulijevo;
- 4 nakon što se na semaforu upali zeleno svjetlo, nastaviti kretanje udesno.



32 Kako ćete postupiti u saobraćajnoj situaciji kao na slici?

- 1 povećati pažnju zbog nailaska na ukrštanje odnosno spajanje puta sa prednošću prolaska sa sporednim putem;
- 2 obavezno nastaviti kretanje vozilom pravo;
- 3 skrenuti udesno na sporedni put ili nastaviti kretanje vozilom pravo.



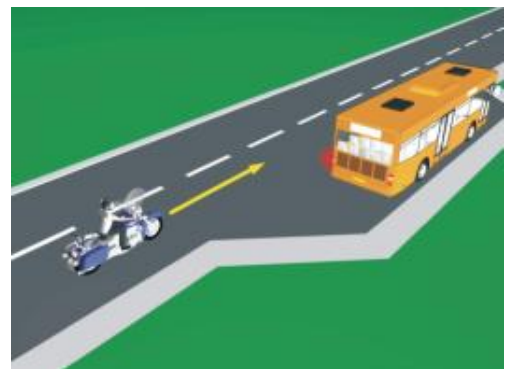
33 Kako ćete postupiti u saobraćajnoj situaciji kao na slici?

- 1 obratiti pažnju na moguću djecu na putu ili u blizini puta, a brzinu kretanja vozila prilagoditi trenutnim uslovima saobraćaja, s tim da brzina ne smije biti veća od brzine određene saobraćajnim znakom;
- 2 obratiti pažnju samo ako se djeca nalaze na putu, a brzinu prilagoditi trenutnim uslovima saobraćaja.



34 Kako treba postupiti vozač motocikla u saobraćajnoj situaciji kao na slici, ako je na vozilu javnog gradskog prevoza putnika uključen lijevi pokazivač smjera?

- 1 nije dužan omogućiti autobusu uključivanje u saobraćaj;
- 2 dužan je omogućiti autobusu uključivanje u saobraćaj;
- 3 nije dužan omogućiti autobusu uključivanje u saobraćaj jer se autobus nalazi na sporednom putu.



35 U saobraćajnoj situaciji kao na slici vozač putničkog automobila:

- 1 ne smije da izvrši radnju kretanja vozilom unazad, jer čini prekršaj;
- 2 smije izvršiti radnju kretanja vozilom unazad, jer se nalazi neposredno uz mjesto za zaustavljanje vozila.



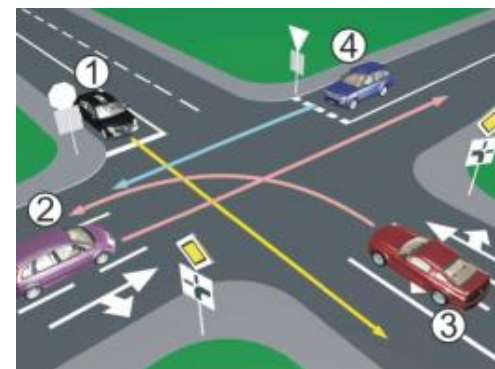
36 Kako u saobraćajnoj situaciji kao na slici mora postupiti vozač vozila broj 2?

- 1 proći prije vozila broj 1;
- 2 propustiti vozilo broj 1.



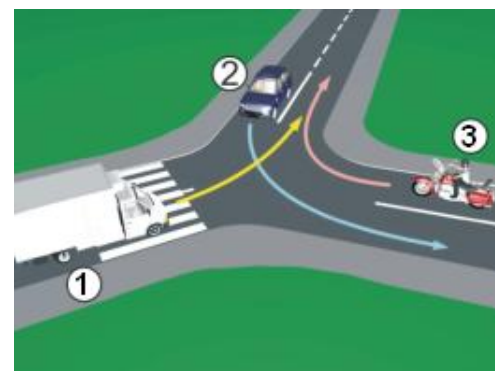
37 Koji je redoslijed prolaska vozila na raskrsnici u situaciji kao na slici?

- 1 1 – 3 – 2 – 4;
- 2 3 – 2 – 1 – 4;
- 3 3 – 1 – 2 – 4;
- 4 1 – 4 – 2 – 3.



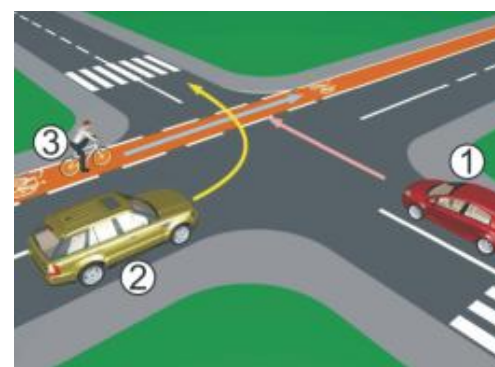
38 Koji je redoslijed prolaska vozila na raskrsnici u situaciji kao na slici?

- 1 2 – 1 – 3;
- 2 3 – 1 – 2;
- 3 1 – 2 – 3.



39 Koji je redoslijed prolaska vozila na raskrsnici u situaciji kao na slici?

- 1 1 – 2 – 3;
- 2 1 – 3 – 2;
- 3 3 – 1 – 2.



40 Koji je redoslijed prolaska vozila na raskrsnici u situaciji kao na slici?

- 1 2 – 1 – 3;
- 2 1 – 3 – 2;
- 3 3 – 2 – 1.



1	1	2	3	4	5					
2	1	2	3	4	5					
3	1	2	3	4	5					
4	1	2	3	4	5					
5	1	2	3	4	5					
6	1	2	3	4	5					
7	1	2	3	4	5					
8	1	2	3	4	5					
9	1	2	3	4	5					
10	1	2	3	4	5					
<table border="1" style="width: 100%; border-collapse: collapse;"> <tr><td style="width: 20px;"></td><td style="width: 20px;">x</td><td style="width: 20px;">2</td><td style="width: 20px;">=</td><td style="width: 20px;"></td></tr> </table>							x	2	=	
	x	2	=							
11	1	2	3	4	5					
12	1	2	3	4	5					
13	1	2	3	4	5					
14	1	2	3	4	5					
15	1	2	3	4	5					
16	1	2	3	4	5					
17	1	2	3	4	5					
18	1	2	3	4	5					
19	1	2	3	4	5					
20	1	2	3	4	5					
<table border="1" style="width: 100%; border-collapse: collapse;"> <tr><td style="width: 20px;"></td><td style="width: 20px;">x</td><td style="width: 20px;">2</td><td style="width: 20px;">=</td><td style="width: 20px;"></td></tr> </table>							x	2	=	
	x	2	=							
21	1	2	3	4	5					
22	1	2	3	4	5					
23	1	2	3	4	5					
24	1	2	3	4	5					
25	1	2	3	4	5					
<table border="1" style="width: 100%; border-collapse: collapse;"> <tr><td style="width: 20px;"></td><td style="width: 20px;">x</td><td style="width: 20px;">3</td><td style="width: 20px;">=</td><td style="width: 20px;"></td></tr> </table>							x	3	=	
	x	3	=							
26	1	2	3	4	5					
27	1	2	3	4	5					
28	1	2	3	4	5					
29	1	2	3	4	5					
30	1	2	3	4	5					
<table border="1" style="width: 100%; border-collapse: collapse;"> <tr><td style="width: 20px;"></td><td style="width: 20px;">x</td><td style="width: 20px;">5</td><td style="width: 20px;">=</td><td style="width: 20px;"></td></tr> </table>							x	5	=	
	x	5	=							
31	1	2	3	4	5					
32	1	2	3	4	5					
33	1	2	3	4	5					
34	1	2	3	4	5					
35	1	2	3	4	5					
<table border="1" style="width: 100%; border-collapse: collapse;"> <tr><td style="width: 20px;"></td><td style="width: 20px;">x</td><td style="width: 20px;">5</td><td style="width: 20px;">=</td><td style="width: 20px;"></td></tr> </table>							x	5	=	
	x	5	=							
36	1	2	3	4	5					
37	1	2	3	4	5					
38	1	2	3	4	5					
39	1	2	3	4	5					
40	1	2	3	4	5					

Ukupno negativnih: _____

