

**1. Međunarodna vozačka dozvola:**

- 1 može se zamijeniti za vozačku dozvolu BiH;
- 2 ne može se zamijeniti za vozačku dozvolu BiH.

**2. Vozač koji upravlja „skupom vozila“ čija je najveća dozvoljena masa veća od 3.500 kg ne smije neprekidno upravljati vozilom:**

- 1 duže od 4,5 h;
- 2 duže od 5 h;
- 3 duže od 9 h.

**3. Motorno vozilo koje prevozi opasne materije mora biti obilježeno sa prednje strane:**

- 1 sa dva okrugla bijela svjetla, prečnika najmanje 10 cm na gornjim uglovima vozila;
- 2 sa dva okrugla narandžasta svjetla, prečnika najmanje 10 cm na gornjim uglovima vozila.

**4. Šta znači znak „X” u gornjem redu identifikacione table za prevoz opasnih materija?**

- 1 da opasna materija burno reaguje ako dođe u dodir sa otvorenim plamenom;
- 2 da opasna materija burno reaguje ako dođe u dodir sa vodom.

**5. Motorna vozila kojima se prevoze opasne materije:**

- 1 mogu se zaustavljati i parkirati samo na mjestima koja su za tu vrstu vozila određena i obilježena.;
- 2 mogu se zaustavljati i parkirati na kolovozu.



**6. Vozila koja ne ispunjavaju propisane uslove u pogledu dimenzija, ukupne mase i osovinskog opterećenja mogu da učestvuju u saobraćaju na javnom putu?**

- 1 ako ispunjavaju posebne uslove koji omogućavaju bezbjedan i nesmetan saobraćaj, utvrđene u odobrenju koje je izdalo nadležno ministarstvo;
- 2 ako se kreću po putu van naselja.

**7. Pravilnik o tehničkim pregledima podrazumijeva da su laka vozila ona vozila čija najveća dopuštena masa ne prelazi:**

- 1 3,5 t;
- 2 7,5 t.



**8. U kojem se periodu obavlja redovni tehnički pregled vozila auto-škole koja su starija od 5 godina?**

- 1 svaka 3 mjeseca;
- 2 svakih 6 mjeseci;
- 3 jednom godišnje.

**9. Ako je vozač prinuđen zaustaviti ili parkirati vozilo na kolovozu sa dvije saobraćajne trake gdje se saobraćaj odvija u oba smjera:**

- 1 dužan je obilježiti vozilo posebnim znakom kojim se označava zaustavljeno vozilo na kolovozu (bezbjednosni trokut);
- 2 nije dužan obilježiti vozilo posebnim znakom kojim se označava zaustavljeno vozilo na kolovozu (bezbjednosni trokut);
- 3 mora uključiti uređaj za istovremeno paljenje svih pokazivača smjera, ako je u motornom vozilu ugrađen taj uređaj.



**10. Da li se, po pravilu, od momenta prijema do momenta predaje opasne materije vozač motornog vozila smije udaljiti od vozila?**

- 1 da;
- 2 ne.

11. **Motorno vozilo koje vuče vozilo koje prevozi opasne materije, ne smije se kretati brzinom većom od:**

- 1 25 km/h;
- 2 30 km/h;
- 3 40 km/h.



12. **Koja motorna i priključna vozila moraju imati gabaritna svjetla?**

- 1 motorna i priključna vozila čija visina prelazi 2,8 m;
- 2 motorna i priključna vozila koja su šira od 2,1 m.



13. **Lice koje je položilo vozački ispit i kome je izdata vozačka dozvola za kategoriju vozila A, B ili C1 ne smije dvije godine od dana izdavanja vozačke dozvole upravljati vozilom na autoputu brzinom većom od:**

- 1 130 km/h;
- 2 70 km/h;
- 3 100 km/h;
- 4 120 km/h.

14. **Vuča natovarenog teretnog vozila sa priključnim vozilom ili bez priključnog vozila, odnosno traktora sa priključnim vozilom dozvoljena je samo:**

- 1 do prvog mjesta pogodnog za pretovar tereta;
- 2 izuzetno i do prvog mjesta na kojem može da se otkloni kvar na vozilu;
- 3 vuča natovarenog teretnog vozila nije dozvoljena;
- 4 vuča natovarenog teretnog vozila je dozvoljena bez ikakvih uslova.



15. **Teret na vozilu ne smije da pređe najudaljeniju tačku na prednjoj strani vozila za više od:**

- 1 0,25 m;
- 2 0,50 m;
- 3 1,00 m;
- 4 jednu šestinu svoje dužine.



16. **Ispred kolskog ulaza u zgradu, dvorište ili garažu vozač ne smije da:**

- 1 parkira vozilo;
- 2 zaustavi vozilo.



17. **Teret koji se prevozi na vozilu i priključnom vozilu može da pređe najudaljeniju tačku na zadnjoj strani vozila najviše za:**

- 1 jednu šestinu svoje dužine koja je kao kontinuiran teret oslonjena na tovarni prostor;
- 2 jednu petinu svoje dužine koja je kao kontinuiran teret oslonjena na tovarni prostor;
- 3 jednu četvrtinu svoje dužine koja je kao kontinuiran teret oslonjena na tovarni prostor.



18. **Vozača na vanredni ljekarski pregled rješenjem upućuje:**

- 1 radnik policije;
- 2 organ kod koga se vozač vodi u evidenciji;
- 3 nadležna zdravstvena organizacija.

19. **Visina motornih i priključnih vozila, uključujući izmjenjive nadgradnje za prihvatanje tereta kao i svih uređaja koji se pri vožnji nalaze na vozilu, može imati maksimalnu vrijednost:**

- 1 5,00m;
- 2 4,00 m;
- 3 3,00 m;
- 4 4,50 m.



20. **Ako se na putu kreću dva ili više vozila koja prevoze opasne materije, odstojanje između tih vozila ne smije biti manje od:**

- 1 150 m;
- 2 200 m;
- 3 280 m.



**21 Koje značenje ima ovaj saobraćajni znak?**

- 1 ulazak u područje u kojem postoji povećana opasnost od izbijanja nekontrolisanog požara;
- 2 ulazak u područje gdje je izletnicima dozvoljeno paljenje vatre.



**22 Kako treba postupiti nailaskom na ovaj saobraćajni znak?**

- 1 obavezno voziti ulijevo;
- 2 nastaviti kretanje vozilom pravom.



**23 Kako treba postupiti nailaskom na ovaj saobraćajni znak?**

- 1 pravovremeno prebaciti u niži stepen prenosa;
- 2 prebaciti u viši stepen prenosa i što više kočiti nožnom kočnicom.



**24 Kojoj vrsti saobraćajnih znakova pripada postavljeni saobraćajni znak na slici?**

- 1 znakovima opasnosti;
- 2 znakovima obavještenja;
- 3 znakovima izričitih naredbi.



**25 Koje značenje ima ovaj saobraćajni znak?**

- 1 blizina prelaza puta preko željezničke pruge u nivou koja nije obezbijeđena branicima ili polubranicima;
- 2 blizina prelaza puta preko željezničke pruge u nivou koja je obezbijeđena branicima ili polubranicima;
- 3 nailazak na drveni most.



**26 Kojim vozilima nije dozvoljeno kretanje putem označenim ovim saobraćajnim znakom?**

- 1 vozilima čija ukupna visina premašuje visinu označenu na znaku;
- 2 vozilima čija ukupna visina ne premašuje visinu označenu na znaku.



**27 Koje značenje ima ovaj saobraćajni znak?**

- 1 obavezan smjer;
- 2 obavezno polukružno okretanje.



**28 Kako treba postupiti nailaskom na ovaj saobraćajni znak?**

- 1 obavezno zaustaviti vozilo;
- 2 povećavati pažnju;
- 3 smanjiti brzinu kretanja vozila tako da se u slučaju potrebe može blagovremeno izvršiti radnja kočenja i zaustavljanja;
- 4 nastaviti kretanje vozilom bez smanjenja brzine kretanja.



**29 Tačan naziv saobraćajnog znaka je:**

- 1 obavezno zaustavljanje;
- 2 nailazak na put s prvenstvom prolaza.



**30 Tačan naziv saobraćajnog znaka je:**

- 1 zabrana saobraćaja za sva motorna vozila, osim za motocikla bez prikolice i mopeda;
- 2 zabrana saobraćaja za sva motorna vozila, osim za motocikla bez prikolice.



**31 U saobraćajnoj situaciji kao na slici učesnici u saobraćaju će proći kroz raskrscopicu sljedećim redoslijedom:**

- 1 oba bicikla, crveni automobil, zeleni automobil;
- 2 zeleni automobil, crveni automobil, pa bicikli;
- 3 oba bicikla, zeleni automobil, crveni automobil.



**32 U saobraćajnoj situaciji kao na slici vozač vozila koje se nalazi u srednjoj saobraćajnoj traci:**

- 1 mora nastaviti kretanje vozilom pravo, jer nije pravovremeno izvršio radnju preostrojanja;
- 2 ne smije izvršiti radnju skretanja ulijevo, jer čini prekršaj;
- 3 sačekaće sva vozila da skrenu ulijevo, a potom izvršiti radnju skretanja ulijevo.



**33 U saobraćajnoj situaciji kao na slici, plavi putnički automobil:**

- 1 ne čini prekršaj jer je prelaz preko pruge regulisan svjetlosnim saobraćajnim znakovima;
- 2 čini prekršaj.



**34 Kako ćete postupiti u saobraćajnoj situaciji kao na slici ukoliko automobilom skrećete udesno?**

- 1 propustiću biciklistu, a zatim vršim radnju skretanja udesno;
- 2 vozim istovremeno sa biciklistom.



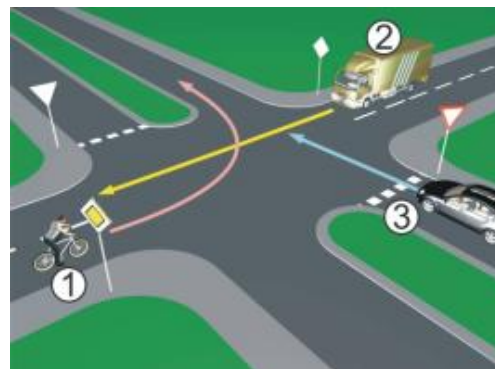
**35 Kako treba postupiti u saobraćajnoj situaciji kao na slici?**

- 1 povećati brzinu kretanja vozila;
- 2 obratiti pažnju na postupke vozača vozila iz suprotnog smjera;
- 3 povećati pažnju i prije vozila iz suprotnog smjera proći dionicu na kojoj je suženje puta.



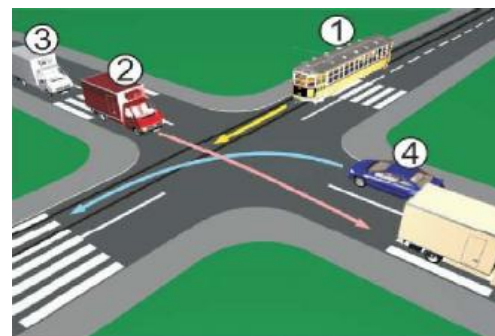
36 Koji je redoslijed prolaska vozila na raskrsnici u situaciji kao na slici?

- 1 2 – 1 – 3;
- 2 3 – 1 – 2;
- 3 3 – 2 – 1.



37 Koji je redoslijed prolaska vozila na raskrsnici u situaciji kao na slici?

- 1 1 – 2 – 3 – 4;
- 2 4 – 1 – 2 – 3;
- 3 2 – 3 – 4 – 1.



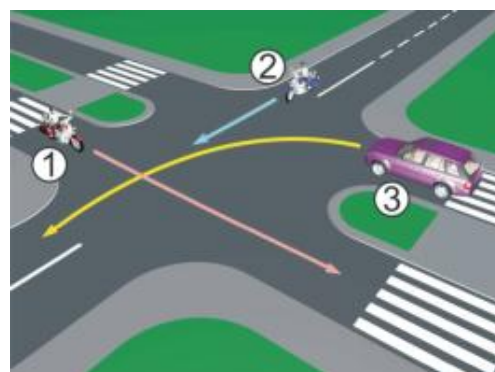
38 Koji je redoslijed prolaska vozila na raskrsnici u situaciji kao na slici?

- 1 3 – 1 – 2;
- 2 2 – 1 – 3;
- 3 1 – 2 – 3.



39 Koji je redoslijed prolaska vozila na raskrsnici u situaciji kao na slici?

- 1 3 – 2 – 1;
- 2 1 – 2 – 3;
- 3 2 – 1 – 3.



40 Koji je redoslijed prolaska vozila na raskrsnici u situaciji kao na slici?

- 1 1 – 3 – 2;
- 2 2 – 3 – 1;
- 3 3 – 2 – 1.





1	1	<del>2</del>	3	4	5
2	<del>1</del>	2	3	4	5
3	1	<del>2</del>	3	4	5
4	1	<del>2</del>	3	4	5
5	<del>1</del>	2	3	4	5
6	<del>1</del>	2	3	4	5
7	<del>1</del>	2	3	4	5
8	1	<del>2</del>	3	4	5
9	<del>1</del>	2	<del>3</del>	4	5
10	1	<del>2</del>	3	4	5

11	1	2	<del>3</del>	4	5
12	1	<del>2</del>	3	4	5
13	1	2	3	<del>4</del>	5
14	<del>1</del>	<del>2</del>	3	4	5
15	1	2	<del>3</del>	4	5
16	<del>1</del>	2	3	4	5
17	<del>1</del>	2	3	4	5
18	1	<del>2</del>	3	4	5
19	1	<del>2</del>	3	4	5
20	1	<del>2</del>	3	4	5

21	<del>1</del>	2	3	4	5
22	<del>1</del>	2	3	4	5
23	<del>1</del>	2	3	4	5
24	1	<del>2</del>	3	4	5
25	1	<del>2</del>	3	4	5

26	<del>1</del>	2	3	4	5
27	<del>1</del>	2	3	4	5
28	1	<del>2</del>	<del>3</del>	4	5
29	1	<del>2</del>	3	4	5
30	<del>1</del>	2	3	4	5

31	1	2	<del>3</del>	4	5
32	<del>1</del>	<del>2</del>	3	4	5
33	1	<del>2</del>	3	4	5
34	<del>1</del>	2	3	4	5
35	1	<del>2</del>	<del>3</del>	4	5

36	<del>1</del>	2	3	4	5
37	<del>1</del>	2	3	4	5
38	<del>1</del>	2	3	4	5
39	1	<del>2</del>	3	4	5
40	1	<del>2</del>	3	4	5

x 2 =

x 2 =

x 3 =

x 5 =

Ukupno negativnih: \_\_\_\_\_

auto škola

LEMI FORCE



mob: 062 294 509 [www.lemiforce.ba](http://www.lemiforce.ba)