

**1. Vozač je:**

1. svako lice koje se u saobraćaju na putu nalazi u vozilu;
2. lice koje na putu upravlja vozilom.

**2. Kako se naziva uzdužni dio kolovoza namijenjen za saobraćaj vozila u jednom smjeru sa jednom ili više saobraćajnih traka?**

1. kolovozna traka;
2. kolovoz;
3. saobraćajna traka.

**3. Preglednost podrazumijeva:**

1. prostor koji učesnik u saobraćaju može da vidi sa mjesta na kojem se nalazi;
2. mjesto na raskrsnici sa kojeg vozač vidi ulijevo i desno najmanje 25 m;
3. mjesto na raskrsnici sa kojeg vozač vidi ulijevo najmanje 25 m.

**4. Stiker-naljepnica je:**

1. dokaz o izvršenom tehničkom pregledu;
2. dokaz o plaćenju putarini;
3. dokaz o izvršenoj registraciji vozila.

**5. Projektovanjem i gradnjom novih javnih puteva, osim lokalnih, mora se obezbijediti da podnesu osovinsko opterećenje od:**

1. najmanje 10 t po osovini;
2. najmanje 11,5 t po osovini;
3. najmanje 11 t po osovini.



**6. Iznad kolovoza javnog puta mora da postoji slobodan prostor u visini od najmanje:**

1. 4,5 m od najviše tačke kolovoza;
2. 4 m od najviše tačke kolovoza;
3. 6 m od najviše tačke kolovoza.



**7. Šta utiče na produženje puta kočenja?**

1. mokar kolovoz;
2. suv kolovoz;
3. opterećenje vozila.



**8. Koja je najveća dozvoljena brzina kretanja za motorna vozila koja vuku prikolicu za stanovanje (karavan) ili laku prikolicu?**

1. 60 km/h;
2. 80 km/h;
3. 90 km/h.



**9. Novoproducedena motorna i priključna vozila, nakon tehničkog pregleda prije prve registracije, vlasnici su dužni da odvezu na redovan tehnički pregled?**

1. u toku mjeseca u kojem ističe rok od 36 mjeseci od dana prve registracije;
2. u toku mjeseca u kojem ističe rok od 12 mjeseci od dana prve registracije;
3. u toku mjeseca u kojem ističe rok od 24 mjeseca od dana prve registracije.

**10. Kako djeca najčešće reaguju u saobraćaju?**

1. razumno i staloženo;
2. u skladu sa propisima;
3. spontano i nepredvidivo.

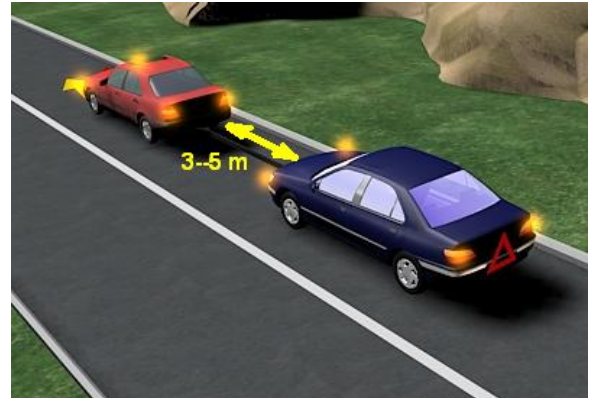


**11. Kako svojim ponašanjem u saobraćaju, za vrijeme upravljanja vozilom, možete doprinijeti smanjenju saobraćajnog rizika?**

1. agresivnom vožnjom;
2. poštovanjem saobraćajnih pravila i propisa;
3. defanzivnom vožnjom.

**12. Pomoću užeta ne smije da se vuče motorno vozilo:**

1. na kojem su neispravni uređaji za osvijetljavanje puta, označavanje vozila i za davanje svjetlosnih znakova;
2. na kojem su neispravni uređaji za zaustavljanje;
3. na kojem su neispravni uređaji za upravljanje.




**13. Za koji period važi ljeakarsko uvjerenje o zdravstvenoj sposobnosti za upravljanje motornim vozilom?**

1. 12 mjeseci od dana izdavanja;
2. 6 mjeseci od dana izdavanja.

**14. Krutom vezom (rudom) ne smije da se vuče motorno vozilo:**

1. koje ima ispravan uređaj za upravljanje;
2. koje je teže od vučnog vozila, ako mu je neispravna pomoćna kočnica.



**15. Zaustavljanje vozila je:**

1. svaki prekid kretanja vozila na putu u trajanju do 15 minuta, osim prekida koji se pravi da bi se postupilo po znaku ili pravilu kojim se reguliše saobraćaj;
2. svaki prekid kretanja vozila na putu u trajanju do 5 minuta, osim prekida koji se pravi da bi se postupilo po znaku ili pravilu kojim se reguliše saobraćaj.





**16. Pješak je:**

1. lice koje se vozi na koturaljkama;
2. lice koje upravlja vozilom, ili se prevozi u vozilu ili na vozilu.



**17. Koliko kolovoznih traka ima put sa jednosmjernim saobraćajem?**

1. dvije kolovozne trake;
2. jednu kolovoznu traku;
3. više od dvije kolovozne trake.



**18. Prelaz alkohola u krv (resorpcija alkohola), završi se?**

1. najkasnije nakon jednog sata od konzumiranja alkohola;
2. najkasnije nakon 24 sata od konzumiranja alkohola.

**19. Koje radnje nije preporučljivo vršiti za vrijeme upravljanja motornim vozilom u uslovima smanjene vidljivosti?**

1. kretati se uz desnu ivicu kolovoza;
2. prelaziti u saobraćajnu traku namijenjenu za kretanje vozila iz suprotnog smjera.



**20. Koja je najmanja dozvoljena brzina kretanja motornog vozila na autoputu?**

1. 40 km/h;
2. 60 km/h.



**21. Šta treba izbjegavati nailaskom na ovaj saobraćajni znak?**

- 1 vožnju prilagođenu uslovima koji vladaju na kolovozu;
- 2 nagle pokrete točkom upravljača;
- 3 naglo kočenje i zaustavljanje.



**22. Kako treba postupiti nailaskom na ovaj saobraćajni znak?**

- 1 pripremiti se za savladavanje više uzastopnih krivina od kojih je prva udesno;
- 2 učesnike u saobraćaju iza sebe upozoriti desnim pokazivačem pravca;



**23. Na koju opasnost upozorava ovaj saobraćajni znak?**

- 1 na blizinu dijela puta gdje je uz kolovoz neutvrđena bankina;
- 2 na blizinu dijela puta gdje je zaleđen kolovoz.



**24. Kako ćete postupiti nailaskom na ovaj saobraćajni znak?**

- 1 nastaviti kretanje vozilom jer imam prvenstvo prolaza;
- 2 smanjiti brzinu kretanja vozila i po potrebi zaustaviti vozilo;
- 3 propustiti vozila iz suprotnog smjera.



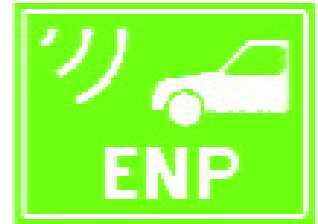
**25. Tačan naziv saobraćajnog znaka je?**

- 1 zabrana saobraćaja za sva motorna vozila koja vuku priključno vozilo;
- 2 zabrana saobraćaja za sva motorna vozila koja vuku laku prikolicu.



26. Tačan naziv saobraćajnog znaka je:

- 1 elektronska naplata putarine;
- 2 zabrana korištenja radio-aparata u vozilu.



27. Tačan naziv saobraćajnog znaka je:

- 1 niša za zaustavljanje vozila u slučaju opasnosti;
- 2 prostor rezervisan za zaustavljanje vozila javnog gradskog prevoza.



28. Tačan naziv saobraćajnog znaka je:

- 1 radionica za popravak guma;
- 2 mjesto gdje možete kontrolisati pritisak u gumama.



29. Kako treba postupiti nailaskom na ovaj saobraćajni znak?

- 1 povećavati pažnju;
- 2 pružiti pomoć povrijeđenim u saobraćajnoj nezgodi
- 3 povećavati brzinu kretanja vozila.



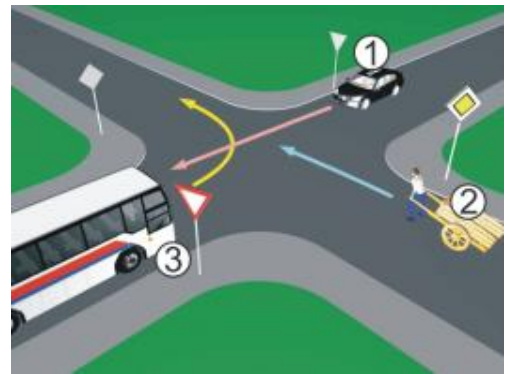
30. Koje značenje ima ovaj saobraćajni znak?

- 1 ulazak u područje u kojem postoji povećana opasnost od izbijanja nekontrolisanog požara;
- 2 ulazite u područje gdje je dozvoljeno izletnicima paljenje vatre.



31 Koji je redosljed prolaska vozila na raskrsnici u situaciji kao na slici?

- 1 2 – 3 – 1;
- 2 2 – 1 – 3;
- 3 1 – 3 – 2.



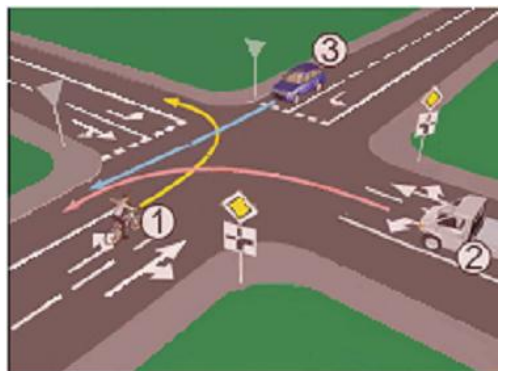
32 Koji je redosljed prolaska vozila na raskrsnici u situaciji kao na slici?

- 1 1 – 2;
- 2 2 – 1.



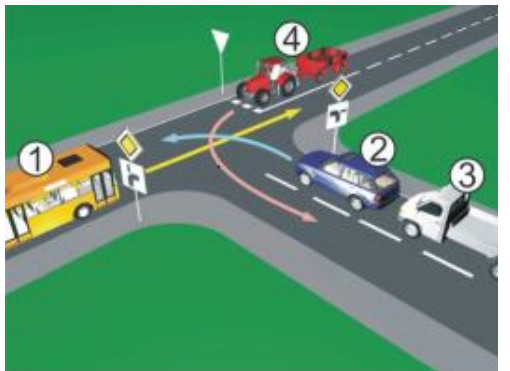
33 Kako u saobraćajnoj situaciji kao na slici mora postupiti vozač vozila broj 1?

- 1 proći kroz raskrsnicu prije vozila broj 2, a propustiti vozilo broj 3;
- 2 propustiti vozilo broj 2, a zatim proći kroz raskrsnicu prije vozila broj 3.



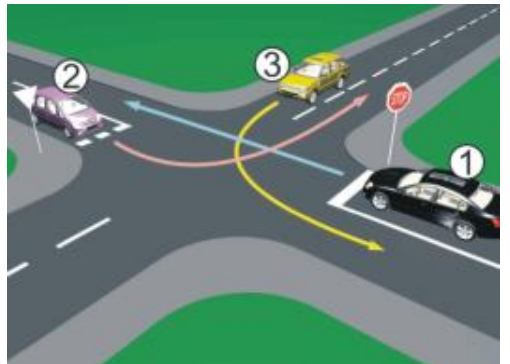
34 Koji je redosljed prolaska vozila na raskrsnici u situaciji kao na slici?

- 1 2 – 3 – 4 – 1;
- 2 2 – 3 – 1 – 4;
- 3 1 – 2 – 3 – 4.



35 Kako u saobraćajnoj situaciji kao na slici mora postupiti vozač vozila broj 1:

- 1 propustiti vozilo broj 3, a zatim proći prije vozila broj 2;
- 2 propustiti vozilo broj 3, zatim propustiti vozilo broj 2 i zadnji proći kroz raskrsnicu.





36 Koji je redoslijed prolaska vozila na raskrsnici u situaciji kao na slici?

- 1 3 – 1 – 2 – 4;
- 2 4 – 2 – 1 – 3;
- 3 3 – 4 – 2 – 1.



37 Koji je redoslijed prolaska vozila na raskrsnici u situaciji kao na slici?

- 1 2 – 3 – 1;
- 2 2 – 1 – 3;
- 3 3 – 1 – 2.



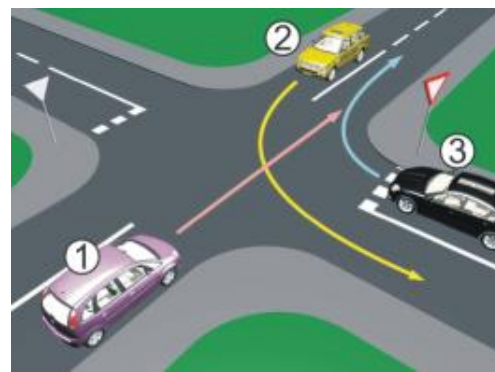
38 Koji je redoslijed prolaska vozila na raskrsnici u situaciji kao na slici?

- 1 5 – 4 – 3 – 2 – 1;
- 2 1 – 2 – 3 – 4 – 5.



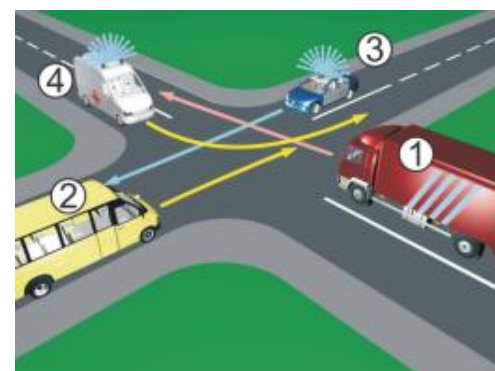
39 Koji je redoslijed prolaska vozila na raskrsnici u situaciji kao na slici?

- 1 2 – 3 – 1;
- 2 1 – 2 – 3;
- 3 3 – 1 – 2.



40 Koji je redoslijed prolaska vozila na raskrsnici u situaciji kao na slici?

- 1 4 – 3 – 1 – 2;
- 2 3 – 4 – 1 – 2;
- 3 4 – 3 – 2 – 1.





1	1	<del>2</del>	3	4	5
2	<del>1</del>	2	3	4	5
3	<del>1</del>	<del>2</del>	3	4	5
4	1	2	<del>3</del>	4	5
5	1	<del>2</del>	3	4	5
6	<del>1</del>	2	3	4	5
7	<del>1</del>	<del>2</del>	<del>3</del>	4	5
8	1	<del>2</del>	3	4	5
9	1	2	<del>3</del>	4	5
10	1	2	<del>3</del>	4	5
x 2 =					

11	1	<del>2</del>	<del>3</del>	4	5
12	1	<del>2</del>	<del>3</del>	4	5
13	<del>1</del>	2	3	4	5
14	1	<del>2</del>	3	4	5
15	1	<del>2</del>	3	4	5
16	<del>1</del>	2	3	4	5
17	1	<del>2</del>	3	4	5
18	<del>1</del>	2	3	4	5
19	1	<del>2</del>	3	4	5
20	<del>1</del>	2	3	4	5
x 2 =					

21	1	<del>2</del>	<del>3</del>	4	5
22	<del>1</del>	2	3	4	5
23	<del>1</del>	2	3	4	5
24	1	<del>2</del>	<del>3</del>	4	5
25	<del>1</del>	2	3	4	5
x 3 =					

31	1	2	<del>3</del>	4	5
32	<del>1</del>	2	3	4	5
33	1	<del>2</del>	3	4	5
34	1	<del>2</del>	3	4	5
35	<del>1</del>	2	3	4	5
x 5 =					

Ukupno negativnih: \_\_\_\_\_

